

Reference ID:(11964) Choose the correct form of verb for the given sentence:

We wouldn't mind _____.

A.to wait

B.waiting

C.wait

D.waited

Answer: B.waiting

Reference ID:(11999) पुढीलपैकी शुद्ध शब्द ओळखा.

A.महात्म्य

B.माहात्म्य

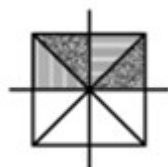
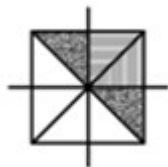
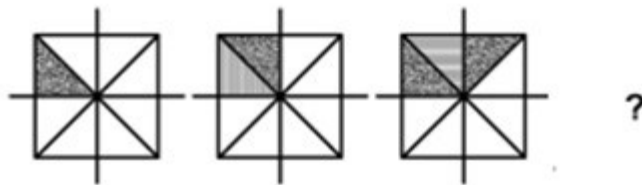
C.माहत्म्य

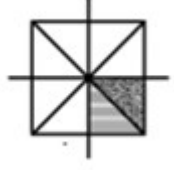
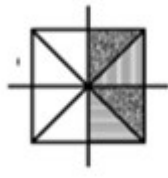
D.महत्म

Answer: B.माहात्म्य

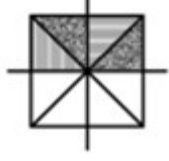
Reference ID:(12501)

खाली दिलेल्या क्रमामध्ये, पुढे कोणती आकृती येईल ?





Answer:



Reference ID:(12278)

सरासरी काढा.
65, 58, 58, 65, 78 & 84

A.68

B.85

C.58

D.84

Answer:

A.68

Reference ID:(11983)

रिकामी जागा भरा.
अकरणरूपी वाक्ये म्हणजे वाक्ये

A.होकारार्थी

B.आज्ञार्थी

C.नकारार्थी

D.स्वार्थी

Answer:

C.नकारार्थी

Reference ID:(11975)

Choose the correct form of tense for the given sentence:

Every day, the dog _____ at the gate and the gatekeeper _____ him.

A.wait, feed

B.waits, feeds

C.wait, feeds

D.waits, feed

Answer: B.waits, feeds

Reference ID:(11973) Choose the correct form of verb that is in agreement with the subject:

Always _____ that you proofread your documents carefully before sending them out.

A.insure

B.ensure

C.assure

D.reassure

Answer: B.ensure

Reference ID:(11988) योग्य पर्यायाची निवड करा.
ते उद्या चित्रपट -----

A.पाहते

B.पाहतात

C.पाहशील

D.पाहतील

Answer: D.पाहतील

Reference ID:(11963) Choose the appropriate articles to complete the given sentence:
_____ blowout is _____ accident in _____ oil well.

A.A ... an....an

B.No article required ... no article required...an

C.The ... an...a

D.No article required ... no article required...a

Answer: A.A ... an....an

Reference ID:(12267) भारतीय संविधानात 12 ते _____ क्रमांकाच्या अनुच्छेदांमध्ये नागरिकांचे मूलभूत अधिकार समाविष्ट केलेले आहेत.

A.35

B.55

C.22

D.15

Answer: A.35

Reference ID:(11961) Choose the option with the appropriate suffix to complete the given sentence:

The report requires many modifica_____.

A.-sion

B.-cion

C.-ion

D.-tion

Answer: D.-tion

Reference ID:(11976) Choose the option that best expresses the meaning of the highlighted idiom/phrase:

All my warnings **fell on stony ground**.

A.were accepted

B.were received

C.were ignored

D.were given

Answer: C.were ignored

Reference ID:(12288) रिकाम्या जागी योग्य संख्या निवडून श्रृंखला पूर्ण करा:
2, 3, 4, 15, 56, ____, 1704

A.112

B.285

C.192

D.234

Answer: B.285

Reference ID:(11998) कोणत्या विभक्तीत एकवचनाचे प्रत्यय 'ऊन', 'हून' हे आहेत?

A.पंचमी

B.चतुर्थी

C.सप्तमी

D.संबोधन

Answer: A.पंचमी

Reference ID:(12265) भारतीय राष्ट्रीय काँग्रेसच्या पहिल्या सत्राचे अध्यक्ष कोण होते?

A.डब्ल्यू. सी. बॅनर्जी

B.सुरेंद्रनाथ बॅनर्जी

C.जी.एच. देशमुख

D.ए. बेझंट

Answer: A.डब्ल्यू. सी. बॅनर्जी

Reference ID:(11952) Choose the option that has the correct spelling.

A.Manageble

B.Managable

C.Managaebble

D.Manageable

Answer: D.Manageable

Reference ID:(11985) गद्य क्रमात लिहिलेले बरोबर वाक्य ओळखा.
दिली तुम्ही प्रेरणा आम्हाला ताठमानेने जगण्याची

A.आम्हाला ताठ मानेने जगण्याची प्रेरणा तुम्ही दिली.

B.दिली ताठ जगण्याची प्रेरणा आम्हाला मानेने तुम्ही.

C.ताठ प्रेरणा जगण्याची आम्हाला तुम्ही मानेने दिली.

D.प्रेरणा मानेने जगण्याची दिली ताठ आम्हाला तुम्ही.

Answer: A.आम्हाला ताठ मानेने जगण्याची प्रेरणा तुम्ही दिली.

Reference ID:(11982) पुढील शब्दाचे लिंग ओळखा.
चंद्रिका

A.पुल्लिंग

B.स्त्रीलिंग

C.नपुसकलिंग

D.उभयलिंग

Answer: B.स्त्रीलिंग

Reference ID:(12273) दख्खनचा ताजमहाल-'बीबी का मकबरा' हा महाराष्ट्रामधील खालीलपैकी कोणत्या ठिकाणी स्थित आहे?

A.मुंबई

B.औरंगाबाद

C.अहमदनगर

D.उस्मानाबाद

Answer: B.औरंगाबाद

Reference ID:(12264) "चेन्नई सेंट्रल" रेल्वे स्थानकचे नवीन नाव काय आहे?

A.पुरात्वी थलैवार डॉ. एम.जी. रामचंद्रन चेन्नई सेंट्रल

B.पुरात्वी थलैवार डॉ. एम.जी. रामचंद्रन चेन्नई नॉर्थ

C.पुरात्वी थलैवार डॉ. एम.जी. रामचंद्रन चेन्नई साऊथ

D.पुरात्वी थलैवार डॉ. एम.जी. रामचंद्रन चेन्नई ईस्ट

Answer: A.पुरात्वी थलैवार डॉ. एम.जी. रामचंद्रन चेन्नई सेंट्रल

Reference ID:(12284) A आणि B चे एकूण वय हे B आणि C च्या एकूण वयापेक्षा 12 वर्षे जास्त आहे. C हा A पेक्षा किती वर्षांनी लहान आहे?

A.12

B.24

C.15

D.10

Answer: A.12

Reference ID:(11954) Choose the sentence with the correct punctuation to convey the right meaning.

A.Roma asked Sona, are you coming tomorrow?

B.Roma asked Sona, "are you coming tomorrow."

C."Roma asked Sona are you coming tomorrow?"

D.Roma asked Sona, "Are you coming tomorrow?"

Answer: D.Roma asked Sona, "Are you coming tomorrow?"

Reference ID:(12298) एका पुस्तक विक्रेत्याने 3200 रुपयांना 40 पुस्तकं खरेदी केली आणि 8 पुस्तकांच्या विक्री किमतीएवढा नफा मिळवून त्यांची विक्री केली. जर प्रत्येक पुस्तकाची किंमत सारखी असेल तर एक डझन पुस्तकांची विक्री किंमत काय आहे?

A.रु. 1300

B.रु. 1100

C.रु. 800

D.रु. 1200

Answer: D.रु. 1200

Reference ID:(11970) Choose the most suitable conjunction for the given sentence:

_____ he has been drugged or he is in deep sleep.

A.Not only

B.Also

C.Either

D.Certainly

Answer: C.Either

Reference ID:(11989) दिलेल्या धातूचे शक्य क्रियापद ओळखा.
उठणे

A.उठते

B.उठला

C.उठवते

D.उठून

Answer: C.उठवते

Reference ID:(12285) 4 डिसेंबर 1999 ला सोमवार होता, तर 3 जानेवारी 2000 ला कोणता दिवस होता?

A.बुधवार

B.गुरूवार

C.शुक्रवार

D.शनिवार

Answer: A.बुधवार

Reference ID:(12263) कोणत्या दोन बँकांसोबत एकत्र येऊन बँक ऑफ बरोडा ही भारताची तिसरी सर्वात मोठी बँक बनली आहे?

A.विजया बँक आणि देना बँक

B.आरबीएल आणि विजया बँक

C.आयडीबीआय बँक आणि देना बँक

D.आरबीएल बँक आणि आयडीबीआय

Answer: A.विजया बँक आणि देना बँक

Reference ID:(12266) राष्ट्रीय जलमार्ग क्रमांक 83 महाराष्ट्रातील _____ मध्ये स्थित आहे.

A.राजापुरी खाडी

B.वर्सोली

C.मिठी

D.मालाड

Answer: A.राजापुरी खाडी

Reference ID:(12268) महाराष्ट्रातील बालक संरक्षणाची समस्या संबोधण्यासाठी कोणत्या संस्थेने गोवा वुमन अँड चाईल्ड डेव्हलपमेंट सोबत हातमिळवणी केली आहे?

A.युनेस्को

B.युनेसेफ

C.डब्ल्युएचओ

D.मानवी अधिकार आयोग

Answer: B.युनेसेफ

Reference ID:(11972) Choose the most appropriate usage to fill in the blank in the given sentence:

Large factories _____ employ workers for night shifts.

A.routinely

B.routine

C.routiningly

D.rotation

Answer:

A.routinely

Reference ID:(11977)

खालील पर्यायी उत्तरांतील गटाबाहेरची जोडी सांगा.

A.उपहास-हास्यविनोद

B.इंतजाम-व्यवस्था

C.उद्दाम-उर्मट

D.उदास-विरक्त

Answer:

A.उपहास-हास्यविनोद

Reference ID:(11966)

Which of the following options best combines the following sentences?

It rained. They played.

A.Although it rained, they played.

B.It rained and so they played.

C.They played and it rained.

D.It rained that they played.

Answer:

A.Although it rained, they played.

Reference ID:(12300)

एक दुकानदाराने डीव्हीडी खरेदी केली आणि अनुक्रमे 10% आणि 15% अशी सलग सूट देऊन 200 रुपयांना चिन्हांकित केले. त्याने वाहतूकीवर 7 रुपये खर्च केले आणि डीव्हीडीची 208 रुपयांना विक्री केली. त्याच्या नफ्याची टक्केवारी काय असेल?

A.58%

B.44%

C.30%

D.50%

Answer:

C.30%

Reference ID:(11959)

Choose the appropriate collective noun to complete the sentence:

William Shakespeare is famous for his _____ of sonnets.

A.anthology

B.garland

C.couplet

D.collection

Answer: B.garland

Reference ID:(12260) निती आयोगाने सुरू केलेली फेम ॥ ही मोठी योजना ही कशाशी संबंधित आहे?

A.इस्रो मिशन

B.विशेषप्रकारे सक्षम व्यक्तींसाठी तंत्रज्ञान

C.आर्थिक स्थिरता

D.विद्युत वाहने

Answer: D.विद्युत वाहने

Reference ID:(11965) Choose the most suitable determiner for the given sentence:

It is _____ an interesting movie that I stayed awake late all night to watch it.

A.so

B.very

C.too

D.such

Answer: D.such

Reference ID:(12271) स्वच्छ सर्वेक्षण 2019 पुरस्कारामध्ये, देशामधील 'उत्तम प्रदर्शन करणारे राज्य-क्र. 1' म्हणून खालीलपैकी कोणत्या भारतीय राज्याला पुरस्कृत करण्यात आले?

A.छत्तीसगढ

B.पंजाब

C.गुजरात

D.मध्यप्रदेश

Answer:

A.छत्तीसगढ

Reference ID:(12299)

जेव्हा तांदळाची किंमत 30 टक्क्यांनी वाढते, तेव्हा एक कुटुंब खर्च हा आधीपेक्षा फक्त 20% जास्त होईल अशाप्रकारे त्यांचा उपभोग कमी करते. जर पूर्वी कुटुंबाद्वारे 50 किग्रॅ तांदळाचे सेवन केले जात असेल, तर कुटुंबाचा नवीन उपभोग काढा (अंदाजे)?

A.43 किग्रॅ

B.44 किग्रॅ

C.45 किग्रॅ

D.46 किग्रॅ

Answer:

D.46 किग्रॅ

Reference ID:(12261)

'ऊर्जा आणि पर्यावरणावरील आंतरराष्ट्रीय परिषद आणि प्रदर्शन: आव्हाने आणि संधी' (इएनसीओ 2019) कुठे आयोजित केली होती

A.हैदराबाद

B.नवी दिल्ली

C.बेंगलुरु

D.चेन्नई

Answer:

B.नवी दिल्ली

Reference ID:(12252)

महाराष्ट्र लोक सेवा कायदा 2015 च्या प्रारंभाच्या दिनांका पासून _____ महिन्यांच्या कालावधीच्या आत आणि त्यानंतर वेळोवेळी, सार्वजनिक प्राधिकरण त्यांच्याद्वारे दिल्या जाणाऱ्या सार्वजनिक सेवांबाबत सूचित करेल.

A.एक

B.दोन

C.तीन

D.सहा

Answer:

C.तीन

Reference ID:(12276)

रुचकर पदार्थ तयार करण्यासाठी वापरल्या जाणाऱ्या आळंब्यां खालीलपैकी कोणत्या श्रेणीशी संबंधित असतात:

A.भाज्या

B.अंडी

C.बुरशी

D.फुलांचा कोंब

Answer:

C.बुरशी

Reference ID:(11979)

दिलेल्या शब्दगटातून विरुद्धार्थी शब्द ओळखा.
कृत्य – विधायक X -----

A.संघटक

B.विशिष्ट

C.विघातक

D.हास्यस्पद

Answer:

C.विघातक

Reference ID:(11995)

अनेकवचनांचे एक वचन करा.
दोषींवर कारवाई करण्याचे त्यांनी आदेश दिले आहेत.

A.दोषींवर कारवाई करण्याचा त्याने आदेश दिले आहेत.

B.दोषींवर कारवाई करण्याचे त्याने आदेश दिले आहेत.

C.दोषींवर कारवाई करण्याचा त्याने आदेश दिला आहे.

D.दोषींवर कारवाई करण्याचा त्यांनी आदेश दिला आहे.

Answer:

C.दोषींवर कारवाई करण्याचा त्याने आदेश दिला आहे.

Reference ID:(11958)

Fill in the blank with the correct noun for the given sentence:

No _____ would attempt a difficult peak without the right _____.

A.climber ... machinery

B.mountaineer ... equipment

C.hiker ... machineries

D.mounting ... instruments

Answer: B.mountaineer ... equipment

Reference ID:(11978) दिलेल्या शब्दगटातून विरुद्धार्थी शब्दा ओळखा.
कणीस – कोवळे X -----

A.कडक

B.मोठे

C.निबर

D.कणीदार

Answer: C.निबर

Reference ID:(12282) चांदी ही पाण्यापेक्षा 18 पट जड आहे आणि लोखंडाच्या 10 पट जड आहे. या धातूंना किती गुणोत्तरात मिसळले जावे जेणेकरून आपल्याला पाण्यापेक्षा 16 पट जड धातूचे मिश्रण मिळेल?

A.3:2

B.2:3

C.1:2

D.3:1

Answer: D.3:1

Reference ID:(12280)

खाली दिलेल्या चार पत्यांपैकी कोणता पत्ता खाली दिलेल्या पत्याशी अचूकपणे जुळत नाही?

Pinegrove-Lhasa Ln, Buchwara, Durgjan, Srinagar,
Jammu and Kashmir 190001
090868 11104

(i) Pinegrove-Lhasa Ln, Buchwara, Durgjan, Srinagar,
Jammu and Kashmir 190001
090868 11104

(ii) Pinegrove-Lhasa Ln, Buchwara, Durgjan, Srinagar,
Jammu and Kashmir 190001
090868 11104

(iii) Pinegrove-Lhasa Ln, Buchwara, Durgjan, Srinagar,
Jammu and Kashmir 190001
090868 11104

(iv) Pinrgrove-Lhasa Ln, Buchwara, Durqjan, Srinagar,
Jammu and Kashmir 190801
090868 11104

A.i

B.ii

C.iii

D.iv

Answer:

D.iv

Reference ID:(12269)

कोणती भारतीय व्यक्ती दक्षिण-पूर्व आशिका प्रदेशामधील हेपाटायटीससाठी डब्ल्यूएचओ सदिच्छा दूत आहे?

A.अमिताभ बच्चन

B.करीना कपूर खान

C.सचिन रमेश तेंडूलकर

D.विराट कोहली

Answer:

A.अमिताभ बच्चन

Reference ID:(12257)

आपल्या देशामध्ये कोणत्या रेल्वे स्थानकाला एअरपोर्टसारख्या सुविधा असल्याबद्दल 3 री श्रेणी मिळाली आहे?

A.चेन्नई

B.मुंबई

C.कोलकाता

D.सुरत

Answer:

D.सुरत

Reference ID:(12293)

11 संख्यांची सरासरी 50 आहे. जर पहिल्या 6 संख्यांची सरासरी 6 असेल आणि शेवटच्या 6 संख्यांची सरासरी 52 असेल. तर 6 वी संख्या काढा.

A.55

B.56

C.57

D.58

Answer:

B.56

Reference ID:(12287)

रिकाम्या जागी योग्य संख्या निवडून श्रृंखला पूर्ण करा:
4, 6, 16, 56, 240, _____

A.680

B.840

C.960

D.1232

Answer:

D.1232

Reference ID:(11974)

Out of the following options, identify a simple sentence.

A.As soon as I entered the class the test started.

B.No sooner than I entered the class did the test start.

C.I entered the class and the test started.

D.Ramesh was not able to take the test.

Answer:

D.Ramesh was not able to take the test.

Reference ID:(11962)

Choose the appropriate articles for the given sentence:

_____ nurse who has _____ right qualifications will have no trouble finding _____ job.

A.A ... the ...a

B.The ... no article required ... the

C.A ... the ...the

D.No article required ... a ... a

Answer:

A.A ... the ...a

Reference ID:(11981)

पुढील शब्दास योग्य जोडशब्द सांगा.
बोलणे

A.चालणे

B.धावणे

C.राहणे

D.थांबणे

Answer:

A.चालणे

Reference ID:(12295)

10 महिला एक काम 7 दिवसांत पूर्ण करतात आणि 10 मुलांना तेच काम पूर्ण करायला 14 दिवस लागतात. काम पूर्ण करण्यासाठी 5 महिला आणि 10 मुलांना किती दिवस लागतील?

A.3 दिवस

B.5 दिवस

C.7 दिवस

D.9 दिवस

Answer:

C.7 दिवस

Reference ID:(12281)

5 वर्षापूर्वी लग्न झाले तेव्हा एक पती व पत्नीचे सरासरी वय 23 वर्षे होते. आता पती, त्याची पत्नी आणि या दरम्यान त्यांना झालेल्या अपत्याचे सरासरी वय 19 आहे. तर अपत्याचे वय काय?

A.1

B.2

C.3

D.4

Answer: A.1

Reference ID:(11971) Choose the appropriate conjunction for the given sentence:

The doctors can't take a decision _____ the test results are available.

A.until

B.if

C.but

D.in case

Answer: A.until

Reference ID:(11986) रिकाम्या जागी योग्य शब्द निवडा.
विधेयाबद्दल अधिक माहिती देऊन त्याचा विस्तार करणे म्हणजे -----

A.विधेयविस्तार

B.कर्म

C.कर्मपूरक

D.उद्देश्यविस्तार

Answer: A.विधेयविस्तार

Reference ID:(11992) पुढील वाक्यातील अधोरेखित अव्ययाचा प्रकार ओळखा.
परवा माझी शाळा सुरू होईल.

A.शब्दयोगी अव्यय

B.क्रियाविशेषण अव्यय

C.केवलप्रयोगी अव्यय

D.उभयान्वयी अव्यय

Answer: B.क्रियाविशेषण अव्यय

Reference ID:(12270) महाराष्ट्रामधील कोणती योजना महिलांच्या स्वयं सहायता गटांना त्यांची नव उपक्रम आणि उद्योजक कौशल्य दर्शवण्यासाठी मंच पुरवण्यावर भर देते.

A.महालाभारती

B.महाशक्ती

C.महानारी

D.हिरकणी महाराष्ट्राची

Answer: D.हिरकणी महाराष्ट्राची

Reference ID:(12290) ताज्या फळांमध्ये 75% तर सुक्या फळांमध्ये 20% पाणी असते. जर सुक्या फळांचे वजन 300 किग्रॅ असेल, तर ती ताजी असताना त्यांचे एकूण वजन काय होते?

A.900 किग्रॅ

B.850 किग्रॅ

C.920 किग्रॅ

D.960 किग्रॅ

Answer: D.960 किग्रॅ

Reference ID:(12272) इंटरनेशनल एनजीओ, रिपोर्टर्स विदाऊट बॉर्डर्सने अलिकडे जागतिक प्रेस स्वातंत्र्य निर्देशांक 2019 प्रकाशित केला. 180 देशांमध्ये जागतिक प्रेस स्वातंत्र्य निर्देशांकामध्ये भारताला कितवे स्थान मिळाले?

A.150 वे

B.160 वे

C.130 वे

D.140 वे

Answer: D.140 वे

Reference ID:(12296) A आणि B एक काम अनुक्रमे 15 दिवस आणि 10 दिवसांत पूर्ण करू शकतात. त्यांनी एकत्र काम करायला सुरुवात केली पण 2 दिवसांनंतर B ला काम सोडून जावे लागले आणि एकट्या A ने उर्वरित काम पूर्ण केले. पूर्ण काम किती दिवसांत पूर्ण झाले असेल:

A.8 दिवस

B.10 दिवस

C.12 दिवस

D.15 दिवस

Answer: C.12 दिवस

Reference ID:(11980) रिकाम्या जागी योग्य जोडशब्द लिहा.
बक्षीस समारंभासाठी तिचे ----- उपस्थित होते.

A.आईभाऊ

B.आईवडील

C.आईआजी

D.आईआजोबा

Answer: B.आईवडील

Reference ID:(12251) पुढील वाक्यात पर्यायातील अचूक वाक्प्रचार निवडा.
मोबाईलवरून तर खोट्या बातम्या तशाही पसरवल्या जातात.

A.गोंधळ घालणे

B.वावड्या उठवणे

C.हातखंडा असणे

D.पिच्छा पुरवणे

Answer: B.वावड्या उठवणे

Reference ID:(12294) A ने 13,000 रुपयांना मशीन खरेदी केली, मग त्याने 3500 रुपयांना तिची दुरुस्ती केली,
त्यांनी 500 रुपये वाहतूक खर्च दिला. मग त्यांनी तिची 50% नफ्याने विक्री केली.
वास्तविकतः त्याने तिची किती किमतीला विक्री केली?

A.18500 रु.

B.25500 रु.

C.22200 रु.

D.19600 रु.

Answer:

B.25500 रु.

Reference ID:(12279)

चार वर्षांपुर्वी रामचं वय शामच्या वयाच्या दुप्पट होतं. आतापासून सहा वर्षांनंतर, रामचं वय शामच्या वयाच्या फक्त 1.5 पट असेल. तर राम आणि शामचं सध्याचं वय अनुक्रमे काय असेल?

A.20 वर्ष आणि 16 वर्ष

B.24 वर्ष आणि 14 वर्ष

C.26 वर्ष आणि 15 वर्ष

D.30 वर्ष आणि 17 वर्ष

Answer:

B.24 वर्ष आणि 14 वर्ष

Reference ID:(11997)

पुढील वाक्यातील विरामचिन्ह ओळखा.
कव्यानी जमा केलेल्या निधीची उधळपट्टी तर केवळ असंभव !

A.अपसरण चिन्ह

B.संक्षेपचिन्ह

C.लोपचिन्ह

D.उद्गारचिन्ह

Answer:

D.उद्गारचिन्ह

Reference ID:(11960)

Choose the option with the appropriate suffix to complete the given sentence:

My brother is the tall__ boy in his class.

A.-ful

B.-hood

C.-est

D.-ism

Answer: C.-est

Reference ID:(11968) Choose the appropriate prepositions for the given sentence:

The concept _____ ecotourism has gained publicity _____ the past couple of decades.

A.in ... in

B.about ... for

C.with ... about

D.of over

Answer: D.of over

Reference ID:(12253) कुसुम (KUSUM) योजनेचे पूर्ण रूप काय आहे?

A.किसान ऊर्जा सुरक्षा एवं उत्थान महाभियान

B.कृषी ऊर्जा सुरक्षा एवं उत्थान महाभियान

C.खरीफ ऊर्जा सुरक्षा एवं उत्थान महाभियान

D.कला ऊर्जा सुरक्षा एवं उत्थान महाभियान

Answer: A.किसान ऊर्जा सुरक्षा एवं उत्थान महाभियान

Reference ID:(11984) पुढील वाक्याचा प्रकार ओळखा.
आई म्हणाली की प्रत्येकाने प्रामाणिकपणे काम केले पाहिजे.

A.प्रश्नार्थी

B.मिश्र वाक्य

C.संयुक्त वाक्य

D.केवल वाक्य

Answer: B.मिश्र वाक्य

Reference ID:(12000) पुढील वाक्प्रचारांच्या योग्य अर्थाचा पर्याय निवडा.
ओनामा करणे-

A.शेवट करणे

B.प्रारंभ करणे

C.व्यवस्था करणे

D.अनुकरण करणे

Answer:

B.प्रारंभ करणे

Reference ID:(12254)

नवी दिल्ली येथे खालीलपैकी कोणाला राष्ट्रपती सन्मान प्रमाणपत्र आणि महर्षी बादरायण व्यास सन्मान पुरस्कार 2019 ने सन्मानित केले गेले होते?

A.डॉ. रघुवीर वेदालंकार

B.डॉ. विरेंद्र कुमार मिश्रा

C.प्रा. कृष्णकांत शर्मा

D.वेंकय्या नायडू

Answer:

D.वेंकय्या नायडू

Reference ID:(12283)

सॅम आणि अक्षयच्या वर्तमान वयांचे गुणोत्तर अनुक्रमे 5:4 आहे. तीन वर्षांनंतर, त्यांच्या वयांचे गुणोत्तर अनुक्रमे 11:9 होईल. अक्षयचे वर्तमान वय वर्षामध्ये किती आहे?

A.24

B.27

C.40

D.35

Answer:

A.24

Reference ID:(11953)

Choose the option that has the correct spelling for the missing word in the given sentence:

Do you _____ the words of the song?

A.rember

B.remember

C.remamber

D.rimember

Answer:

B.remember

Reference ID:(11991) रिकाम्या जागी योग्य पर्याय निवडा.
शब्दांना जोडून येणारी अव्यये त्या शब्दांचा त्याच वाक्यातील दुसऱ्या एखाद्या शब्दाशी संबंध जोडण्याचे काम करतात त्यांना अव्यये म्हणतात.

A.उभयान्वयी अव्यये

B.शब्दयोगी अव्यये

C.क्रियाविशेषण अव्यये

D.केवलप्रयोगी अव्यये

Answer: B.शब्दयोगी अव्यये

Reference ID:(12286) खाली दिलेल्या श्रृंखलेमध्ये अंकांचा एक विशिष्ट क्रम दिलेला आहे. त्यानुसार चुकीचा क्रम ओळखा:
729, 1331, 2497, 3375, 4913

A.729

B.1331

C.3375

D.2497

Answer: D.2497

Reference ID:(11956) Choose the correct form of adjective for the given sentence:

This _____ work is not good enough for someone of your ability.

A.unsatisfactory

B.dissatisfied

C.nonsatisfactory

D.unsatisfied

Answer: A.unsatisfactory

Reference ID:(11967) Choose the correct form of modal auxiliary verb for the given sentence:

Unless you work hard, you _____ not pass the examination.

A.will

B.need

C.should

D.ought to

Answer:

A.will

Reference ID:(12255)

महाराष्ट्र भ्रष्टाचार विरोधी ब्युरोचे नवीन नियुक्त झालेले महानिदेशक _____ यांच्या जागेवर येणार आहेत.

A.संजय बर्वे

B.परम बीर सिंग

C.करण बीर सिंह

D.संजय सिंह

Answer:

A.संजय बर्वे

Reference ID:(11993)

पुढील नामाला अयोग्य विशेषणाचा पर्याय निवडा.
कपाट

A.लाकडी

B.मध्ययुगीन

C.संकरित

D.मोठे

Answer:

C.संकरित

Reference ID:(12277)

खालील मांडणीचा काळजीपूर्वक अभ्यास करा आणि खाली दिलेल्या प्रश्नाचे उत्तर द्या:
M4ET%19IB@U8©N#WFIV7*2AH3Y5\$6K
वरील मांडणीमध्ये असे किती स्वर आहेत ज्या प्रत्येकाच्या लगेचच आधी संख्या आणि लगेच नंतर व्यंजन आहे?

A.एक

B.दोन

C.तीन

D.चार

Answer:

C.तीन

Reference ID:(12297)

1 जानेवारी 2006 रोजी रविवार होता. 1 जानेवारी 2010 रोजी आठवड्याचा कोणता दिवस होता?

A.शुक्रवार

B.शनिवार

C.रविवार

D.सोमवार

Answer:

A.शुक्रवार

Reference ID:(12292)

बसचा वेग दर एक तासाला 2 किमीतासाने वाढवला गेला. जर पहिल्या एक तासामध्ये कापलेले अंतर 35 किमी असेल, तर 12 तासांमध्ये कापलेले एकूण अंतर काय होते?

A.422

B.552

C.502

D.492

Answer:

B.552

Reference ID:(11987)

दिलेल्या काळात परिवर्तन करण्यासाठी योग्य पर्याय निवडा.
खूप लोकांनी हे नाटक बघितले. (पूर्ण भविष्यकाळ)

A.बघितले आहे

B.बघितले होते

C.बघितले असेल

D.बघत असेल

Answer:

C.बघितले असेल

Reference ID:(12256)

_____ हे भारताचे समाज सुधारक होते ज्यांनी सती आणि बाल विवाहाच्या पध्दती समाप्त केल्या.

A.इश्वर चंद्र विद्यासागर

B.स्वामी विवेकानंद

C.राजा राम मोहन रॉय

D.गोपाळ गणेश आगरकर

Answer:

C.राजा राम मोहन रॉय

Reference ID:(11996)

पुढील वाक्यातील अव्यय ओळखा.
तू माझ्यासमोर ते औषध घेऊन टाक.

A.तू

B.समोर

C.ते

D.औषध

Answer:

B.समोर

Reference ID:(12289)

सुरूवातीला, सुरेशच्या पेटीएम वॉलेटमध्ये 200 रुपये होते मग त्याने ते 20% नी वाढवले. पुन्हा एकदा त्याने त्याची रक्कम 25% नी वाढवली. वॉलेटमधील अंतीम पैशांचे मूल्य हे आरंभिक रकमेपेक्षा किती टक्के अधिक असेल?

A.40%

B.50%

C.80%

D.60%

Answer:

B.50%

Reference ID:(11957)

Choose the correct form of adjective for the given sentence:

Modeling is a glamorous field, which offers tremendous opportunities to travel and meet _____ classes of people.

A.various

B.variety

C.variant

D.varieties

Answer:

A.various

Reference ID:(12291)

A आणि B हे गोलाकार मार्गाभोवती चालत आहेत. A आणि B हे दर तासाला अनुक्रमे 2 फेऱ्या आणि 3 फेऱ्या या वेगाने चालत आहेत. जर त्यांनी सकाळी 8 वाजता विरुद्ध दिशेमध्ये एकाच ठिकाणावरून चालायला सुरुवात केली, तर सकाळी 9:30 पर्यंत ते किती वेळा एकमेकांसमोर येतील.

A.5

B.7

C.6

D.8

Answer:

C.6

Reference ID:(11994)

पुढील वाक्यात किती विशेषणे आहेत, ते ओळखा.
वक्यांनी आपले भाषण आक्रमक आणि जोरकस केले

A.१

B.२

C.३

D.४

Answer:

C.३

Reference ID:(12259)

महाराष्ट्रामधील कोणत्या गावाने दुष्काळ प्रतिबंध उपक्रम म्हणून गावामध्ये प्रत्येक जन्म आणि मृत्यूला चिन्हांकित करण्यासाठी वृक्षारोपण केल्यामुळे ते बातमी मध्ये होते?

A.अखरवाडी

B.राणमाळा

C.काडूस

D.चिंचोशी

Answer:

B.राणमाळा

Reference ID:(12262)

महाराष्ट्रामधील खालीलपैकी कोणी खेले इंडिया युथ गेम्स 2019 येथे 17 वर्षाखालील मुलींच्या संयुक्त तिरंदाजीमध्ये सुवर्ण पदक जिंकले?

A.अनन्या सोमण

B.ज्योति पाटील

C.इशा पवार

D.भाग्यश्री हनुमंत फंड

Answer:

C.इशा पवार

Reference ID:(11969)

Choose the appropriate prepositional phrase for the given sentence:

In general, we were _____ her performance.

A.in high spirits with

B.in exchange with

C.impressed with

D.in dispute for

Answer:

C.impressed with

Reference ID:(12275)

खालीलपैकी कोणते तापमानाचे एकक आहे?

A.मीटर

B.डिग्री सेल्सिअस

C.ँम्पिअर

D.सेकंद

Answer:

B.डिग्री सेल्सिअस

Reference ID:(12274)

पश्चिम बंगालनंतर खालीलपैकी कोणत्या शहराने देशामधील ज्यू समुदायाला अल्पसंख्यांकाचा दर्जा दिला?

A.मध्य प्रदेश

B.महाराष्ट्र

C.छत्तीसगड

D.बिहार

Answer:

B.महाराष्ट्र

Reference ID:(11955)

Choose the appropriate option with the correct punctuation marks for the given sentence:

Summer holidays and a trip to Goa what more could anyone want

A. Summer holidays, and a trip to Goa what more could anyone want?

B. Summer holidays and a trip to Goa, what more could anyone want.

C. Summer holidays, and a trip to Goa, what more could anyone want !

D. Summer holidays and a trip to Goa! What more could anyone want?

Answer:

D. Summer holidays and a trip to Goa! What more could anyone want?

Reference ID:(11990)

कर्मानुसार क्रियापदाच्या योग्य रूपाची निवड करा.
नेत्याने भाषण

A. केले

B. केला

C. केली

D. करतो

Answer:

A. केले

Reference ID:(12258)

भारताचे भौगोलिक केंद्र (शून्य मैल चिन्हांकन) येथे स्थित आहे:

A. अहमदनगर

B. पुणे

C. मुंबई

D. नागपूर

Answer:

D. नागपूर