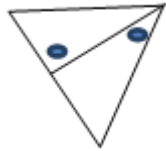
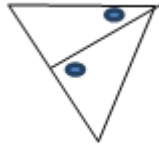
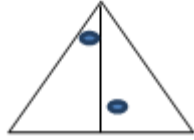
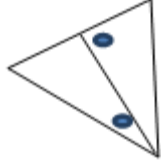
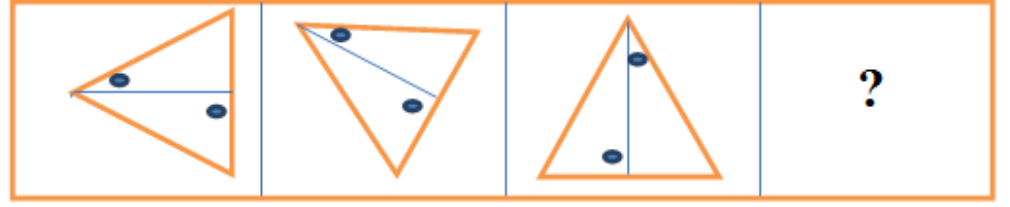
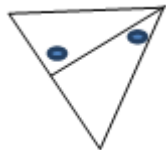


Reference ID:(15948)

खाली दिलेल्या क्रमामध्ये, पुढे कोणती आकृती येईल?



Answer:



Reference ID:(15397)

4 एप्रिल 1988 रोजी सोमवार होता. 3 नोव्हेंबर 1987 रोजी कोणता दिवस असेल?

A.मंगळवार

B.बुधवार

C.गुरूवार

D.शुक्रवार

Answer:

A.मंगळवार

Reference ID:(15380)

वडीलांचे वय हे त्याच्या मुलाच्या वयाच्या दुप्पट आहे. 20 वर्षांपूर्वी वडीलांचे वय हे त्यांच्या मुलाच्या वयाच्या 12 पट होते. वडीलांचे वर्तमान वय (वर्षामध्ये) आहे:

A.44

B.40

C.42

D.38

Answer:

A.44

Reference ID:(15122)

Choose the correct form of verb that is in agreement with the subject:

I hope you _____ your work before leaving for the day.

A.completed

B.is completing

C.will complete

D.was completing

Answer:

C.will complete

Reference ID:(15103)

Choose the appropriate option with the correct punctuation marks for the given sentence:

robin the secretary prepared the minutes

A.Robin, the secretary, prepared the minutes?

B.Robin, the secretary, prepared the minutes.

C.Robin; the secretary prepared the minutes

D.Robin, the, secretary prepared, the minutes.

Answer:

B.Robin, the secretary, prepared the minutes.

Reference ID:(15101)

Choose the option that has the correct spelling.

A.Ignorence

B.Ignnorange

C.Ignorance

D.Ignorance

Answer: D.Ignorance

Reference ID:(15119) Choose the most suitable conjunction for the given sentence:

They got married _____ left for Dubai the next day.

A.since

B.and

C.because

D.or

Answer: B.and

Reference ID:(15118) Choose the option with the best prepositional phrase to complete the given sentence:

I shall always stay by your side _____ and be true to you.

A.at a price

B.at a low ebb

C.at any cost

D.at the mercy of

Answer: C.at any cost

Reference ID:(15363) मुंबईच्या दलाल स्ट्रीटमध्ये खालीलपैकी कोणाचे कार्यालय आहे?

A.राष्ट्रीय स्टॉक एक्सचेंज

B.बॉम्बे स्टॉक एक्सचेंज

C.जागतिक बँक

D.आशियायी विकास बँक

Answer: B.बॉम्बे स्टॉक एक्सचेंज

Reference ID:(15148) भ्रष्टाचाऱ्यांच्या ' या शब्दात किती जोडाक्षरे आहेत?

A.5

B.3

C.4

D.2

Answer:

C.4

Reference ID:(15366)

अनुच्छेद _____ मध्ये राज्याच्या राज्यपाल द्वारे शपथ किंवा प्रतिज्ञा कथन संबंधित तरतुदींचा समावेश केला आहे.

A.161

B.241

C.159

D.281

Answer:

C.159

Reference ID:(15112)

Choose the appropriate articles to complete the given sentence:

The students have reached _____ top of _____ mountain during _____ afternoon.

A.no article required, the, a

B.the, the, the

C.the, a, no article required

D.the, a, the

Answer:

B.the, the, the

Reference ID:(15128)

दिलेल्या शब्दगटातून विरुद्धार्थी शब्द ओळखा.
रेषा – सरळ X -----

A.तिरसट

B.वक्र

C.रुंद

D.लांब

Answer:

B.वक्र

Reference ID:(15365) खालीलपैकी कोणत्या कलम मध्ये 'संवैधानिक उपायांचा अधिकार' संबंधित तरतुदींचा समावेश आहे?

A.कलम 21

B.कलम 32

C.कलम 7

D.कलम 55

Answer: B.कलम 32

Reference ID:(15352) बॅरेन बेट कुठे स्थित आहे?

A.अंदमान आणि निकोबार बेटे

B.लक्षद्वीप

C.माल्टा खाडी

D.पाल्क सामुद्रधुनी

Answer: A.अंदमान आणि निकोबार बेटे

Reference ID:(15144) अनेकवचनांचे एक वचन करा.
बोटी बुडाल्याक व त्यांच्यातील माणसे पाण्यात बुडून मेली.

A.बोटी बुडली व तिच्यातील माणूस पाण्यात बुडून मेली.

B.बोट बुडाली व तिच्यातील माणूस पाण्यात बुडून मेला.

C.बोट बुडाल्या व त्यातील माणसे पाण्यात बुडून मेला.

D.बोट बुडाली व त्यातील माणूस पाण्यात बुडू मेली.

Answer: B.बोट बुडाली व तिच्यातील माणूस पाण्यात बुडून मेला.

Reference ID:(15147) पंचमी विभक्तीलचे प्रत्यय कोणते?

A.ऊन, हून

B.चा, ची

C.स, ला, ते

D.नो

Answer:

A.ऊन, हून

Reference ID:(15392)

दोन संख्यांची बेरीज 216 आहे आणि त्यांचा म.सा.वी. 27 आहे. त्या संख्या या आहेत:

A.27189

B.108, 108

C.200,16

D.156, 60

Answer:

**** THIS QUESTION IS DISCARDED ****

Reference ID:(15133)

पुढील वाक्याचा प्रकार ओळखा.
आकाशात काळे ढग जमले आणि मोर नाचू लागले.

A.प्रश्नार्थी

B.मिश्र वाक्य

C.संयुक्त वाक्य

D.केवल वाक्य

Answer:

C.संयुक्त वाक्य

Reference ID:(15358)

डिसेंबर 2018 मध्ये पंत प्रधानांद्वारे प्रकाशित केलेल्या आर के लक्ष्मण या प्रख्यात
व्यंगचित्रकारावरील पुस्तकाचे शीर्षक काय आहे?

A.टाईमलेस लक्ष्मण

B.लक्ष्मण रेखास

C.लक्ष्मण दि कार्टुनिस्ट

D.लाफ विथ लक्ष्मण

Answer:

A.टाईमलेस लक्ष्मण

Reference ID:(15138)

अधोरेखित क्रियापदाचा प्रकार ओळखा.
विदुषकाचे काम पाहून तो खूप हसला.

A.साधित

B.संयुक्त

C.अकर्मक

D.सकर्मक

Answer:

C.अकर्मक

Reference ID:(15378)

एका पात्रामध्ये 6 पांढऱ्या, 4 काळ्या, 2 पिवळ्या आणि 3 हिरव्या गोऱ्या आहेत. जर यादृच्छिकपणे 4 गोऱ्या काढल्या गेल्या, तर त्यांच्यापैकी किमान 1 गोटी काळी असण्याची संभाव्यता काय आहे?

A.69/91

B.11/13

C.21/91

D.6/15

Answer:

A.69/91

Reference ID:(15131)

पुढील शब्दाचे लिंग ओळखा.
पोर

A.पुल्लिंग

B.स्त्रीलिंग

C.नपुंसकलिंग

D.उभयलिंग

Answer:

D.उभयलिंग

Reference ID:(15105)

Choose the correct form of adjective for the given sentence:

Occasionally, serious crimes are committed, but they are _____ incidents, not part of a widespread problem.

A.social

B.isolated

C.unique

D.minor

Answer:

B.isolated

Reference ID:(15362)

भारतीय घटनेमध्ये किती मुलभूत कर्तव्ये नमूद केलेली आहेत?

A.6

B.7

C.9

D.11

Answer:

D.11

Reference ID:(15373)

आंतरराष्ट्रीय महिला दिन 2018 ला, महाराष्ट्र शासनाने शालेय मुली आणि महिलांना अनुदानित दरामध्ये सॅनिटरी पॅड्स पुरवणारा खालीलपैकी कोणता कार्यक्रम सुरू केला?

A.बेटी बचाओ बेटी पढाओ

B.अस्मिता योजना

C.सुकन्या समृद्धी

D.बालिका-महिल्या कल्याण योजना

Answer:

B.अस्मिता योजना

Reference ID:(15382)

खाली दिलेल्या चार पत्यांपैकी कोणता पत्ता खाली दिलेल्या पत्याशी अचूकपणे जुळत नाही?

7 Panorama Centre, 98-East Jinnah Avenue, Blue Area, G 7/2 Blue Area, Capital Territory 44000, +92 51 2347109

(i) 7 Panorana Centre, 98-East Jinnah Avenue, Blue Area, G 7/2 Blue Area, Capital Territory 44000, +92 51 2347019

(ii) 7 Panorama Centre, 98-East Jinnah Avenue, Blue Area, G 7/2 Blue Area, Capital Territory 44000, +92 51 2347109

(iii) 7 Panorama Centre, 98-East Jinnah Avenue, Blue Area, G 7/2 Blue Area, Capital Territory 44000, +92 51 2347109

(iv) 7 Panorama Centre, 98-East Jinnah Avenue, Blue Area, G 7/2 Blue Area, Capital Territory 44000, +92 51 2347109

A.i

B.ii

C.iii

D.iv

Answer:

A.i

Reference ID:(15357)

केंद्र शासनाने खालीलपैके कोणत्या शहरामध्ये ॲनिमेशन, गेमिंग आणि व्हिज्युअल इफेक्ट संस्था स्थापित करण्याची घोषणा केली आहे?

A.वर्धा

B.पुणे

C.दिल्ली

D.मुंबई

Answer:

D.मुंबई

Reference ID:(15377)

बॉक्समध्ये, 8 संत्री, 7 सफरचंद आणि 6 आंबे आहेत. जर यादृच्छिकपणे एक फळ निवडले गेले. तर ते संतरे किंवा आंबा नसण्याची संभाव्यता काय आहे?

A.7/21

B.6/21

C.8/21

D.3/21

Answer:

C.8/21

Reference ID:(15146)

पुढील वाक्यातील विरामचिन्ह ओळखा.
चहा बिनसाखरेचा होता हे खरे; परंतु लाडवाच्या रुपाने काही कॅलरीज पोटात गेल्याच.

A.स्वल्पविराम

B.अवतरण चिन्ह

C.अर्धविराम

D.पूर्ण विराम

Answer:

C.अर्धविराम

Reference ID:(15102)

Choose the option that has the correct spelling for the missing word in the given sentence:

The ring she is wearing is a family_____.

A.heirloom

B.hairloom

C.herlum

D.hierlum

Answer:

A.heirloom

Reference ID:(15129)

रिकाय्या जागी योग्य जोडशब्दल लिहा.

या वर्षी _____ चांगला झाल्यामुळे पीक चांगल झाले.

A.पाऊसपाणी

B.वादळपाणी

C.औषधपाणी

D.चहापाणी

Answer:

A.पाऊसपाणी

Reference ID:(15125)

Choose the option that best expresses the meaning of the highlighted idiom/phrase:

With the birth of the baby, my mother's **hands were full**.

A.the baby was very fat

B.became busy

C.grew tired

D.incapable of hard work

Answer:

B.became busy

Reference ID:(15114)

Choose the most suitable determiner for the given sentence:

_____ the Senior Manager or the Section Head has to address the issue.

A.Neither

B.Either

C.None

D.All

Answer:

B.Either

Reference ID:(15372)

महाराष्ट्रातील खालीलपैकी कोणत्या राष्ट्रीय उद्यानांमध्ये 2400 वर्षे जुन्या बौद्ध कालखंडामधील कान्हेरी गुहा आहेत?

A.गुगामल राष्ट्रीय उद्यान

B.ताडोबा राष्ट्रीय उद्यान

C.संजय गांधी राष्ट्रीय उद्यान

D.चांदोली राष्ट्रीय उद्यान

Answer: C.संजय गांधी राष्ट्रीय उद्यान

Reference ID:(15126) 'कच खाणे' या वाक्यप्रचारचा अर्थ-

A.अडचण येणे.

B.माघार घेणे.

C.अडचणीतून पार पडणे.

D.संकटात पडणे.

Answer: B.माघार घेणे.

Reference ID:(15123) Out of the following options, identify a simple sentence.

A.Mohan and Manjhli are friends.

B.Jawahar called Myna but he did not discuss the economics paper.

C.Keerthi ran as fast as she could but failed to win the race.

D.For it is in giving that we truly receive says the Bible.

Answer: A.Mohan and Manjhli are friends.

Reference ID:(15375) घर, दवाखाने, कारखाने इत्यादींमधून सोडल्या जाणाऱ्या सांडपाण्यासाठी खालीलपैकी कोणती शास्त्रीय संकल्पना वापरली जाते?

A.वाहिलेले पाणी

B.अशुद्ध पाणी

C.अस्वच्छ पाणी

D.मैला पाणी

Answer: D.मैला पाणी

Reference ID:(15384)

8 डिसेंबर, 2007 रोजी शनिवार होता. 8 डिसेंबर 2006 रोजी कोणता दिवस असेल?

A.शुक्रवार

B.शनिवार

C.रविवार

D.सोमवार

Answer:

A.शुक्रवार

Reference ID:(15398)

कारची किंमत 4,50,000 रुपये आहे. तिच्या किमतीच्या 80% एवढा विमा केला आहे. अपघातामध्ये कारचे पूर्णपणे नुकसान झाले आणि विमा कंपनीने विम्याच्या 90% रक्कम त्याला प्रदान केली. कारची किंमत आणि प्राप्त झालेली रक्कम यांमधील फरक काय होता?

A.1,76,375 रुपये

B.3,24,000 रुपये

C.1,82,150 रुपये

D.1,26,000 रुपये

Answer:

D.1,26,000 रुपये

Reference ID:(15381)

सरासरी काढा.
25, 32, 48, 75, 68 & 28

A.68

B.49

C.59

D.46

Answer:

D.46

Reference ID:(15110)

Choose the option with the appropriate suffix to complete the given sentence:

People have become more addic__ to technological advancements in such a way that made them lazy.

A.-ient

B.-tive

C.-tion

D.-ing

Answer:

B.-tive

Reference ID:(15145)

पुढील वाक्यांमधे योग्य ते अव्यय घाला.
एक तास ----- साठ मिनिटे

A.म्हणजे

B.की

C.कारण

D.तरी

Answer:

A.म्हणजे

Reference ID:(15124)

Choose the correct form of tense for the given sentence:

_____ told you not to ____ back home this late?

A.I have, come

B.Haven't I, come

C.Aren't I , came

D.Has I, coming

Answer:

B.Haven't I, come

Reference ID:(15121)

Choose the most appropriate usage to fill in the blank in the given sentence:

Many major businesses fail during the _____ stages.

A.initially

B.initiation

C.initial

D.initiate

Answer:

C.initial

Reference ID:(15391)

A आणि B या दोन शहरांमधील अंतर 330 किमी आहे. एक रेल्वे A ठिकाणावरून सकाळी 8 वाजता निघते आणि B या ठिकाणाकडे 60 किमी/तासाने प्रवास सुरू करते. दुसरी रेल्वे सकाळी 9 वाजता B या ठिकाणाहून निघते आणि A ठिकाणाकडे 75 किमी/तासाने प्रवास करते. किती वाजता त्या दोघी एकमेकांसमोर असतील?

A.सकाळी 10.30 वाजता

B.सकाळी 10 वाजता

C.दुपारी 12 वाजता

D.सकाळी 11 वाजता

Answer:

D.सकाळी 11 वाजता

Reference ID:(15370)

स्वच्छ सर्वेक्षण 2019 पुरस्कारामध्ये, 'भारतामधील सर्वात स्वच्छ लष्करी छावणी-क्र.1' म्हणून _____ ला पुरस्कृत करण्यात आले.

A.डलहौसी कॅन्टॉनमेंट बोर्ड

B.अमृतसर कॅन्टॉनमेंट बोर्ड

C.दिल्ली कॅन्टॉनमेंट बोर्ड

D.बेंगलुरू कॅन्टॉनमेंट बोर्ड

Answer:

C.दिल्ली कॅन्टॉनमेंट बोर्ड

Reference ID:(15113)

Choose the correct form of verb for the given sentence:

All of his movies ____ strange but there are many people who ____ like them.

A.contains ... has lived

B.are ... don't

C.content ... is

D.contains ... are

Answer:

B.are ... don't

Reference ID:(15116)

Choose the correct form of modal auxiliary verb for the given sentence:

Library should have books which _____ of great value to children.

A.were

B.is

C.was

D.are

Answer:

D.are

Reference ID:(15140)

पुढील वाक्यातील अव्ययाचा प्रकार ओळखा.
'अरेच्चा! मोठी गंमतच झाली की ही!'

A.उभयान्वयी अव्यय

B.क्रियाविशेषण अव्यय

C.केवलप्रयोगी अव्यय

D.शब्दयोगी अव्यय

Answer:

C.केवलप्रयोगी अव्यय

Reference ID:(15139)

कर्मानुसार क्रियापदाच्या योग्य रूपाची निवड करा.
कवीने कविता

A.लिहिली

B.लिहिला

C.लिहिले

D.लिहितो

Answer:

A.लिहिली

Reference ID:(15360)

महाराष्ट्रामधील रुजुता तळेगांवरकर ही खालीलपैकी कोणत्या क्षेत्राशी संबंधित आहे?

A.कुस्तीपटू

B.मुष्टियोध्दा

C.जलतरणपटू

D.मल्लविद्या

Answer:

C.जलतरणपटू

Reference ID:(15130)

रिकाम्या जागी योग्य जोडशब्द लिहा.
मी गर्दीतून सही- ----- बाहेर पडलो.

A.सलाबत

B.सलामत

C.अलबत

D.मसलत

Answer:

B.सलामत

Reference ID:(15385)

खाली दिलेल्या श्रृंखलेमध्ये अंकांचा एक विशिष्ट क्रम दिलेला आहे. त्यानुसार चुकीचा क्रम ओळखा:
17, 36, 132, 635, 3500, 21750, 153762

A.635

B.17

C.132

D.3500

Answer:

A.635

Reference ID:(15143)

पुढील वाक्यांमधील विशेषण ओळखा.
बाळा वर्गात शेवटून अठ्ठेचाळीसावा आला. भलताच हुशार तो!

A.बाळा

B.शेवटून

C.भलताच

D.वर्गात

Answer:

C.भलताच

Reference ID:(15374)

दाढी करण्यासाठी वापरण्याकरता योग्य आरसा _____ आहे.

A.सपाट आरसा

B.अन्वस्तीय आरसा

C.अंतर्वक्र आरसा

D.बहिर्वक्र आरसा

Answer: C.अंतर्वक्र आरसा

Reference ID:(15108) Choose the appropriate collective noun to complete the sentence:

The _____ at the church donated a large sum of money to the flood victims.

A.congregation

B.audience

C.spectators

D.crew

Answer: A.congregation

Reference ID:(15395) A आणि B एक काम 8 दिवसांत करू शकतात, B आणि C तेच काम 12 दिवसांत करू शकतात. A, B आणि C एकत्रित पणे ते काम 6 दिवसांत पूर्ण करतात. A आणि C ते काम एकत्र किती दिवसांत पूर्ण करतील:

A.4 दिवस

B.6 दिवस

C.8 दिवस

D.12 दिवस

Answer: C.8 दिवस

Reference ID:(15149) पुढील वाक्प्रचारांच्या योग्य अर्थाचा पर्याय निवडा.
पराचा कावळा करणे-

A.जिवाची पर्वा न करणे

B.संपवून टाकणे

C.उस्तवार करणे

D.छोटी गोष्ट मोठी करून सांगणे

Answer:

D.छोटी गोष्ट मोठी करून सांगणे

Reference ID:(15368)

91 व्या अकादमी पुरस्कारामध्ये डॉक्यूमेंटरी लहान विषय श्रेणीमध्ये _____ या भारतामधील नेटफ्लिक्स शॉर्ट डॉक्यूमेंटरी फिल्मने ऑस्कर्स जिंकला.

A.पिरीयड एन्ड ऑफ सेंटेंस

B.ए नाईट अट दि गार्डन

C.लाइफबोट

D.एन्ड गेम

Answer:

A.पिरीयड एन्ड ऑफ सेंटेंस

Reference ID:(15388)

दोन लॅपटॉपची खरेदी किंमत सारखी आहे. एक लॅपटॉप हा 15% नफ्याने विकला आणि दुसऱ्या लॅपटॉपची विक्री किंमत ही पहिल्याच्या विक्री किंमतीपेक्षा 3400 रुपये अधिक होती. निव्वळ नफा 20% होता. प्रत्येक लॅपटॉपची खरेदी किंमत काय आहे?

A.36000

B.40000

C.48000

D.34000

Answer:

D.34000

Reference ID:(15109)

Choose the option with the appropriate suffix to complete the given sentence:

I am too scared of poison_____ snakes. What about you?

A.-ful

B.-able

C.-ant

D.-ous

Answer:

D.-ous

Reference ID:(15106)

Choose the correct form of adjective for the given sentence:

The noise from the disco was so _____ that I had a severe headache.

A.untolerable

B.intolerant

C.intolerable

D.tolerable

Answer:

C.intolerable

Reference ID:(15359)

खालीलपैकी कोणते महाराष्ट्र संगीत रंगभूमीमधील प्रसिध्द नृत्य आहे

A.तमाशा

B.लचक

C.लावणी

D.कुचीपुडी

Answer:

C.लावणी

Reference ID:(15353)

"इटींग वास्स" शीर्षक असलेल्या पुस्तकाचे लेखक खालीलपैकी कोण आहेत?

A.अनिता नायर

B.रघुराम जी राजन

C.सीमा गोस्वामी

D.नदीम जमीन

Answer:

A.अनिता नायर

Reference ID:(15390)

एक व्यक्तीने 9 तासांमध्ये 61 किमी एवढे अंतर कापले. त्याने अर्धा प्रवास 4 किमी/तास वेगाने आणि अर्धा प्रवास 9 किमी/तास वेगाने सायकलवर केला. पायी चाललेले अंतर काढा?

A.12 किमी

B.14 किमी

C.16 किमी

D.18 किमी

Answer:

C.16 किमी

Reference ID:(15132)

पुढील वाक्याचे नकारार्थी वाक्य करा.
आम्हा मुलांना विचारतो कोण?

A.काही मुलांना कोणीही विचारत नाही.

B.आम्हा मुलांना कोणीही विचारत नाही.

C.आम्हा मुलांना सगळेच विचारतात.

D.काही मुलांना सगळेच विचारतात.

Answer:

B.आम्हा मुलांना कोणीही विचारत नाही.

Reference ID:(15136)

दिलेल्या काळात परिवर्तन करण्यासाठी योग्य पर्याय निवडा.
मी निबंध लिहितो. (रीति भविष्यकाळ)

A.लिहित असे

B.लिहित जाईन

C.लिहिला होता

D.लिहिला असेल

Answer:

B.लिहित जाईन

Reference ID:(15379)

सहा वर्षांपूर्वी कवीता आणि सुरेखा यांच्या वयांचे गुणोत्तर 6:5 होते. चार वर्षांनी त्यांच्या वयांचे गुणोत्तर 11:10 होईल. सध्या सुरेखाचे वय काय आहे?

A.17 वर्षे

B.16 वर्षे

C.13 वर्षे

D.18 वर्षे

Answer:

B.16 वर्षे

Reference ID:(15137)

योग्या पर्यायाची निवड करा.
आम्ही काल उशिरा -----

A.पोचू

B.पोचलात

C.पोचलो

D.पोचले

Answer:

C.पोचलो

Reference ID:(15367)

भारतीय संविधानानुसार, कलम _____ च्या अनुसार संसदेद्वारे कोणत्याही राज्याची विधानसभा बरखास्त केली जाऊ शकते आणि राष्ट्रपती शासन लागू केले जाऊ शकते.

A.350

B.354

C.356

D.360

Answer:

C.356

Reference ID:(15364)

2019 मध्ये बिजनेस लाईन 'चेंज मेकर ऑफ दि इयर' पुरस्कारासाठी कोणाची निवड केली गेली?

A.अरुण जेटली

B.मनमोहन सिंह

C.औसफ सईद

D.ममता बॅनर्जी

Answer:

A.अरुण जेटली

Reference ID:(15127)

खालीलपैकी कोणती जोडी विरुद्धार्थी आहे?

A.ज्ञानी X सुज्ञ

B.निरर्थक X अर्थपूर्ण

C.ऐच्छिक X स्वतंत्र

D.दुर्बोध X थंड

Answer:

B.निरर्थक X अर्थपूर्ण

Reference ID:(15115) Which of the following options best combines the two given sentences?

The poet sat in his tower. He gazed on the sea.

A.The poet sat in his tower gazed on the sea.

B.The poet sat in his tower and gazed on the sea.

C.Sitting in his tower gazing on the sea is the poet.

D.In the tower gazing on the sea sat the poet.

Answer: B.The poet sat in his tower and gazed on the sea.

Reference ID:(15351) भारताची घटना _____ पासून लागू झाली?

A.26 जानेवारी 1948

B.26 जानेवारी 1950

C.26 जानेवारी 1951

D.26 जानेवारी 1952

Answer: B.26 जानेवारी 1950

Reference ID:(15389) एका संघटनेमधील गुआन आणि हरिशचा एकूण पगार 30000 रुपये आहे. जर गुआनचा पगार 5% नी वाढवला आणि हरिशचा पगार 7% नी वाढवला, तर त्यांचा एकूण पगार 31800 रुपये एवढा वाढेल. हरिशचा पगार काढा.

A.10,000 रुपये

B.15,000 रुपये

C.18,000 रुपये

D.12,000 रुपये

Answer: B.15,000 रुपये

Reference ID:(15356) खालीलपैकी कोणती नांदेड शहरामधील मुख्य गुरूद्वारा आहे, जी शिखांच्या अधिकाराच्या पाच उच्च जागांपैकी एक आहे जेथे श्री गुरू गोबिंद सिंहजींनी त्यांचा शेवटचा श्वास घेतला?

A.सचखंड गुरूद्वारा

B.गुरूद्वारा हरि मंदिर साहिब

C.गुरूद्वारा बाबा अटल साहिब

D.श्री हरमंदिर साहिब

Answer: A.सचखंड गुरूद्वारा

Reference ID:(15361) कोणत्या क्षेत्रामधील उल्लेखनीय कामगिरीसाठी पुलित्जर पुरस्कातर दिला जातो?

A.पत्रकारिता

B.फॅशन

C.खेळ

D.समाज सेवा

Answer: A.पत्रकारिता

Reference ID:(15354) अलिकडे भारत-आफ्रिका संयुक्त क्षेत्र प्रशिक्षण अभ्यास-एफिन्डेक्स-19 खालीलपैकी कोणत्या शहर आणि राज्यामध्ये सुरू झाला आहे?

A.पुणे, महाराष्ट्र

B.मुंबई, महाराष्ट्र

C.लखनऊ, उत्तर प्रदेश

D.भोपाळ, मध्य प्रदेश

Answer: A.पुणे, महाराष्ट्र

Reference ID:(15150) पुढील वाक्यात पर्यायातील अचूक वाक्प्रचार निवडा.
तुमच्या उत्पादनाची जाहिरात केल्याशिवाय खप वाढणार कसा?

A.चारी मुंड्या चीत करणे

B.डंका वाजवणे

C.हरभऱ्याच्या झाडावर चढवणे

D.पाठीमागे बोलणे

Answer: B.डंका वाजवणे

Reference ID:(15120)

Choose the appropriate conjunction for the given sentence:

_____ she had a good job in USA, she came back to India.

A.As

B.But

C.Except

D.Although

Answer:

D.Although

Reference ID:(15111)

Choose the appropriate articles for the given sentence:

_____ Chief Minister and _____ Prime Minister are attending ____ meeting scheduled for 10.00 am.

A.No article required, the, a

B.The, the, the

C.The, a, no article required

D.The, a, the

Answer:

B.The, the, the

Reference ID:(15104)

Choose the appropriate option with the correct punctuation marks for the given sentence:

sure we had a teacher but not a regular one said the little girl

A.“Sure we had, a teacher but not a regular one,” said the little girl.

B.Sure we had a teacher but not a regular one, said the little girl.

C.`sure we had a teacher but not a regular one ,’said the little girl.

D.“Sure, we had a teacher, but not a regular one,” said the little girl.

Answer:

D.“Sure, we had a teacher, but not a regular one,” said the little girl.

Reference ID:(15355)

खालीलपैकी कोणत्या राज्यामध्ये दृष्टी दोष असलेल्यांसाठी अंध लिपीमधील पहिली मतपत्रिका सादर केली गेली?

A.मिझोराम

B.हरियाणा

C.मेघालय

D.केरळ

Answer:

C.मेघालय

Reference ID:(15386)

रिकाम्या जागी योग्य संख्या निवडून श्रृंखला पूर्ण करा:
2, 4, 10, 22, 42, 72, _____

A.102

B.106

C.114

D.124

Answer:

C.114

Reference ID:(15134)

वाक्यांकमधील सार्थ वाक्य ओळखा.

A.सोसाट्याच्याय वाऱ्याने पानांची सळसळ सुरू झाली.

B.सोसाट्याच्याय वाऱ्याने पानांची हळहळ सुरू झाली.

C.सोसाट्याच्याय वाऱ्याने पानांची खळखळ सुरू झाली.

D.सोसाट्याच्याय वाऱ्याने पानांची मळमळ सुरू झाली.

Answer:

A.सोसाट्याच्याय वाऱ्याने पानांची सळसळ सुरू झाली.

Reference ID:(15393)

एक अप्रामाणिक व्यापारी त्याच्या वस्तूंची किंमत 80% जास्त चिन्हांकित करतो आणि 25% सूट देतो. याशिवाय त्याला घाऊक विक्रेत्याकडून प्रति किलोग्रॅमला 20% अधिक रक्कम मिळते आणि तो ग्राहकांना प्रति किलोला 10% कमी विक्री करतो. एकूण नफ्याची टक्केवारी काय आहे?

A.63%

B.72%

C.88%

D.80%

Answer:

D.80%

Reference ID:(15387)

रिकाम्या जागी योग्य संख्या निवडून श्रृंखला पूर्ण करा:

3, 7, 17, 39, 79, 143, _____

A.178

B.237

C.264

D.301

Answer:

B.237

Reference ID:(15396)

खाली दिलेल्या श्रृंखलेमध्ये अंकांचा एक विशिष्ट क्रम दिलेला आहे. त्यानुसार चुकीचा क्रम ओळखा:

56, 57, 48, 73, 24, 105, -10

A.57

B.73

C.105

D.-10

Answer:

D.-10

Reference ID:(15107)

Fill in the blank with the correct noun for the given sentence:

The committee awards only two _____ every year.

A.scholar

B.scholarships

C.scholarship

D.scholarliness

Answer:

B.scholarships

Reference ID:(15117)

Choose the appropriate prepositions for the given sentence:

Break this chocolate _____ pieces and share it _____ all the children.

A.to , among

B.into, among

C.into, between

D.off , to

Answer: B.into, among

Reference ID:(15383) खालील प्रश्न हे खाली दिलेल्या पाच तीन अंकी संख्यांवर आधारित आहे:
328 642 836 697 954
सर्वात मोठ्या संख्येच्या 3 च्या अंकाने दुसऱ्या सर्वात मोठ्या संख्येच्या 1 ल्या अंकाला
भागल्यास उत्तर काय असेल?

A.2

B.1

C.4

D.6

Answer: A.2

Reference ID:(15141) पुढील वाक्यातील अधोरेखित अव्ययाचा प्रकार ओळखा.
पूर्वी आपल्याकडे विधवा विवाहास मान्यता नव्हती.

A.क्रियाविशेषण अव्यय

B.शब्दयोगी अव्यय

C.केवलप्रयोगी अव्यय

D.उभयान्वयी अव्यय

Answer: A.क्रियाविशेषण अव्यय

Reference ID:(15371) गोवा किनारपट्टीवरील सर्वात मोठ्या नौदल अभ्यासामध्ये _____ चा सहभाग असणार नाही.

A.आयएनएस संकुल

B.आयएनएस चेन्नई

C.आयएनएस तारकाश

D.आयएनएस दिल्ली

Answer: D.आयएनएस दिल्ली

Reference ID:(15399) सिनेमा गृहामधील खुर्च्यांची संख्या 8% कमी केली गेली आणि तिकिटाची किंमत 4 टक्क्यांनी वाढवली. संकलित केल्या जाणाऱ्या उत्पन्नावर काय परिणाम होईल?

A.4.32% वाढ

B.4.32% घट

C.3.32% वाढ

D.3.32% घट

Answer: B.4.32% घट

Reference ID:(15376) खालील मांडणीचा काळजीपूर्वक अभ्यास करा आणि खाली दिलेल्या प्रश्नाचे उत्तर द्या:

A 8 B 6 # 7 H U % 3 \$ F V R 2 1 @ ↑ V 1 W E 9 © L 5

जर वरील मांडणीमधील सर्व चिन्हे काढून टाकली, तर खालीलपैकी काय डाव्या टोकापासून दहावे असेल?

A.3

B.5

C.V

D.F

Answer: C.V

Reference ID:(15142) पुढील नामाला अयोग्य विशेषणाचा पर्याय निवडा.
पान

A.वहीचे

B.हिरवे

C.मऊ

D.चौपट

Answer: D.चौपट

Reference ID:(15135)

गटात न बसणारा शब्द ओळखा.

A.अलंकार

B.उद्देश्यस

C.विधेय

D.उद्देश्यविस्ताशर

Answer:

A.अलंकार

Reference ID:(15369)

जानेवारी 2019 मध्ये, भारताच्या पंत प्रधानांनी महाराष्ट्रामध्ये _____ च्या सोलापूर-तुळजापूर-उस्मानाबाद विभागाचे उद्घाटन केले.

A.एनएच-211

B.एनएच - 75

C.एनएच - 180

D.एनएच - 7

Answer:

A.एनएच-211

Reference ID:(15394)

6 पुरूष आणि 8 मुलं एक काम 10 दिवसांत पूर्ण करू शकतात तर 26 पुरूष आणि 48 मुलं तेच काम 2 दिवसांत पूर्ण करू शकतात, 15 पुरूष आणि 20 मुलांद्वारे सारख्या प्रकारचे काम करण्यासाठी घेतलेली वेळ किती असेल:

A.4 दिवस

B.5 दिवस

C.6 दिवस

D.7 दिवस

Answer:

A.4 दिवस