

Question Paper Title : TI_23

Date of Exam : 19-07-2019 10:00 AM

Reference ID:(19045) सोडवा: $2898 = (126 \times 20) + ?$

A.378

B.252

C.126

D.368

Answer: A.378

Reference ID:(18758) Fill in the blank with the correct noun for the given sentence:

A whole range of physical advances was required for the _____ of human language.

A.developing

B.developmental

C.development

D.develops

Answer: C.development

Reference ID:(19007) महाराष्ट्रामध्ये _____ जिल्हे आहेत.

A.39

B.38

C.36

D.37

Answer: C.36

Reference ID:(19025)

खालीलपैकी कोणत्या ग्रहा भोवती सुंदर वलय आहे?

A.शनी

B.बुध

C.शुक्र

D.मंगळ

Answer:

A.शनी

Reference ID:(18785)

पुढील वाक्य वाचून योग्य वाक्य ओळखा.

A.सिंहाच्या डरकाळ्या बंगल्याच्या आवारात घुमली.

B.सिंहाची डरकाळ्या बंगल्याच्या आवारात घुमले.

C.सिंहाच्या डरकाळ्या बंगल्याच्या आवारात घुमल्या.

D.सिंहाच्या डरकाळी बंगल्याच्या घुमलो.

Answer:

C.सिंहाच्या डरकाळ्या बंगल्याच्या आवारात घुमल्या.

Reference ID:(18781)

रिकाम्या जागी योग्य शब्द भरून जोडशब्द पूर्ण करा.
परि _____

A.हात

B.पाठ

C.पुरावा

D.खेळ

Answer:

B.पाठ

Reference ID:(19044)

एक काम A आणि B हे एकत्र 30 दिवसांमध्ये पूर्ण करतात. A ने 16 दिवस काम केल्यानंतर, B ने उर्वरित काम 44 दिवसांमध्ये पूर्ण केले. संपूर्ण काम एकटा B किती दिवसांत पूर्ण करेल?

A.30 दिवस

B.40 दिवस

C.60 दिवस

D.70 दिवस

Answer:

C.60 दिवस

Reference ID:(18775)

Choose the correct form of tense for the given sentence:

I _____ for 21 kms during the marathon that _____ by Jio.

A.ran, was sponsored

B.will run, will be sponsored

C.shall run, shall be sponsored

D.had run, had been sponsored

Answer:

A.ran, was sponsored

Reference ID:(18770)

Choose the most suitable conjunction for the given sentence:

Curfew will be imposed, _____ the situation improves.

A.if

B.as

C.unless

D.but

Answer:

C.unless

Reference ID:(19018)

खालीलपैकी कोणते स्वरुपाची चित्रकला मूलतः महाराष्ट्र राज्याची आहे?

A.मधुबनी

B.कालीघाट

C.पहारी

D.वारली

Answer:

D.वारली

Reference ID:(19009)

दक्षिण भारतामध्ये खालीलपैकी कोणत्या डोंगरामधून कावेरी नदी (ज्याला Cauvery असेही लिहिले जाते) उगम पावते?

A.अगस्त्यामलई

B.निलगिरीज

C.महेंद्रगिरी

D.ब्रह्मागिरी

Answer:

D.ब्रह्मागिरी

Reference ID:(19013)

कान्हा राष्ट्रीय उद्यान हे भारतामधील खालीलपैकी कोणत्या राज्यामध्ये स्थित आहे?

A.उत्तर प्रदेश

B.मध्य प्रदेश

C.राजस्थान

D.आसाम

Answer:

B.मध्य प्रदेश

Reference ID:(19040)

रेल्वेमधील व्यक्तीने पाहिले की तो एका मिनिटामध्ये 21 दूरध्वनीचे पोस्ट्स मोजू शकतो. जर ते एकमेकांपासून 50 मीटर दूर असतील, तर ट्रेन किती वेगाने प्रवास करत आहे?

A.61 किमी/तास

B.56 किमी/तास

C.63 किमी/तास

D.60 किमी/तास

Answer:

D.60 किमी/तास

Reference ID:(19038)

श्री. रवी यांचे वेतन तीन महिन्यांसाठी 25% कमी केले गेले. पण तीन महिन्यांनी त्यांचे वेतन मूळ वेतनाएवढे वाढवले गेले. श्री. रवी यांच्या वेतनामध्ये किती टक्के वाढ झाली?

A.33.33%

B.42.85%

C.28.56%

D.16.66%

Answer: A.33.33%

Reference ID:(19021) ऑक्टोबर 2018 मध्ये, _____ वर "लुबान" नावाचे अत्यंत तीव्र चक्रीवादळ निर्माण झाले.

A.अरबी समुद्र

B.बंगालचा उपसागर

C.पॅसिफीक महासागर

D.हिंद महासागर

Answer: A.अरबी समुद्र

Reference ID:(18779) दिलेल्या शब्दगटातून विरुद्धार्थी शब्द ओळखा.
ताण – सह्य X -----

A.प्राप्य

B.अप्राप्य

C.असह्य

D.वाढता

Answer: C.असह्य

Reference ID:(18756) Choose the correct form of adjective for the given sentence:

Sahit does not have any moral principles. He is not fair and just. He is _____.

A.irrational

B.unscrupulous

C.harsh

D.valueless

Answer:

B.unscrupulous

Reference ID:(18791)

पुढील वाक्यातील अव्ययाचा प्रकार ओळखा.
'इशश! असे नका ना पाहू गडे!'

A.उभयान्वयी अव्यय

B.केवलप्रयोगी अव्यय

C.शब्दयोगी अव्यय

D.क्रियाविशेषण अव्यय

Answer:

B.केवलप्रयोगी अव्यय

Reference ID:(18774)

Which of the following options is not a compound sentence?

A.The students can choose Kannada or they can opt for Hindi.

B.Applicants should either be M.Phil. holders or have 5 years' experience.

C.Kishkinta was neither too crowded nor too sparsely populated.

D.Mynas are known to sing well.

Answer:

D.Mynas are known to sing well.

Reference ID:(19043)

A आणि B हे बाईक कंपनीचे विक्रेते आहेत. बाईकची किंमत 28,000 रुपये आहे. A हा संपूर्ण रकमेवर 10% सूट देतो, तर B हा पहिल्या 20,000 वर 12% आणि उर्वरित 8000 रुपयांवर 8% सूट देतो. त्यांच्या विक्री किमतीमधील फरक काय आहे?

A.110 रु.

B.180 रु.

C.240 रु.

D.200 रु.

Answer:

C.240 रु.

Reference ID:(18769)

Choose the option with the best prepositional phrase to complete the given sentence:

I have spoken to her on the phone but would like to meet her

_____.

A.at length

B.in abeyance

C.out of season

D.in person

Answer:

D.in person

Reference ID:(18800)

पुढील वाक्प्रचारांच्या योग्य अर्थाचा पर्याय निवडा.
चौदावे रत्न दाखवणे -

A.संपत्ती खुली करणे

B.झाकली मूठ सव्वालाखाची

C.खूप मार देणे

D.आक्रस्ताळेपणा करणे

Answer:

C.खूप मार देणे

Reference ID:(19035)

खाली दिलेल्या श्रृंखलेमध्ये अंकांचा एक विशिष्ट क्रम दिलेला आहे. त्यानुसार चुकीचा क्रम ओळखा:

8, 18, 64, 272, 1395, 8424, 59045

A.18

B.8

C.272

D.64

Answer:

D.64

Reference ID:(19005)

2019 च्या संपत्ती अहवालामध्ये नोंदवलेल्या खर्चिक प्रमुख रहिवाशी बाजारांच्या जागतिक अग्रणी 20 सूचीमध्ये आलेल्या एकमेव भारतीय शहराचे नाव सांगा.

A.पुणे

B.दिल्ली

C.बेंगलुरू

D.मुंबई

Answer:

D.मुंबई

Reference ID:(19019)

लॉरियस स्पोर्ट्समॅन ऑफ दि इयर 2019 पुरस्कार कोणी जिंकला?

A.नोवाक डी जोकोविक

B.रोजर फेडरर

C.राफेल नडाल

D.टायगर वुड्स

Answer:

A.नोवाक डी जोकोविक

Reference ID:(19017)

प्राणहिता नदी महाराष्ट्राच्या _____ वन्यजीव अभयारण्याच्या पश्चिम सीमेवर वाहते.

A.कोयना

B.राधानगरी

C.चाप्राला

D.फणसाड

Answer:

C.चाप्राला

Reference ID:(19028)

एका बॉक्समध्ये 45 वीजेचे बल्ब आहेत ज्यांपैकी 20 सदोष आहेत. जर बॉक्समधून यादृच्छिकरित्या एक बल्ब निवडला जात असेल, तर निवडलेला बल्ब सदोष असल्याची संभाव्यता काय आहे?

A.4/9

B.5/9

C.3/4

D.4/5

Answer:

A.4/9

Reference ID:(18766)

Which of the following options best combines the two given sentences?

The new hair oil will stop hair fall. The company claimed.

A.The new hair oil will stop hair fall and the company claimed.

B.The company claimed that the new hair oil would stop hair fall.

C.The company claimed, but the new hair oil will stop hair fall.

D.The new hair oil will stop hair fall, but the company claimed it.

Answer:

B.The company claimed that the new hair oil would stop hair fall.

Reference ID:(18767)

Choose the correct form of modal auxiliary verb for the given sentence:

I hope you _____ mind waiting so long.

A.don't

B.needn't

C.shouldn't

D.couldn't

Answer:

A.don't

Reference ID:(18794)

पुढील वाक्यांमधील विशेषण ओळखा.
टेबलाचा पृष्ठभाग गुळगुळीत असतो सर्वसाधारणपणे.

A. टेबल

B.पृष्ठभाग

C.गुळगुळीत

D.सर्वसाधारणपणे

Answer:

C.गुळगुळीत

Reference ID:(19046)

खाली दिलेल्या श्रृंखलेमध्ये अंकांचा एक विशिष्ट क्रम दिलेला आहे. त्यानुसार चुकीचा क्रम ओळखा:
45, 131, 228, 338, 466, 619, 800

A.131

B.466

C.619

D.45

Answer: B.466

Reference ID:(19029) दोन बहिणींच्या वयामध्ये 14 वर्षांचा फरक आहे. जर पाच वर्षांपूर्वी, मोठ्या बहिणीचे वय हे लहान बहिणीच्या वयाच्या तीनपट होते, तर त्यांचे वर्तमान वय काढा?

A.14 वर्षे आणि 30 वर्षे

B.13 वर्षे आणि 28 वर्षे

C.12 वर्षे आणि 26 वर्षे

D.15 वर्षे आणि 32 वर्षे

Answer: C.12 वर्षे आणि 26 वर्षे

Reference ID:(19011) बिबी का मकबरा ("महिलेचा मकबरा") हा मकबरा कुठे स्थित आहे?

A.बिजापूर

B.अहमदनगर

C.नागपूर

D.औरंगाबाद

Answer: D.औरंगाबाद

Reference ID:(18761) Choose the option with the appropriate suffix to complete the given sentence:

In a conversation with another applic_____, your ability to empathize must be visible.

A.-able

B.-ation

C.-ee

D.-ant

Answer: D.-ant

Reference ID:(18754)

Choose the appropriate option with the correct punctuation marks for the given sentence:

i want to go for a change from the normal crops he says

A.i want to go for a change from the normal crops; he says.

B.“I want to go for a change from the normal crops,” he says.

C.I want to go for a change from the normal crops,” he says.

D.“I want to go for a change from the normal crops, he says!

Answer:

B.“I want to go for a change from the normal crops,” he says.

Reference ID:(19001)

पुढील वाक्यात पर्यायातील अचूक वाक्प्रचार निवडा.
इंग्रजीचा अभ्यास करून गेल्यावर समोर गणिताचा पेपर बघून रामला काही सुचेनासे झाले.

A.अर्धचंद्र मिळणे

B.पाचवीला पूजणे

C.तळपायाची आग मस्तकात जाणे

D.मती कुंठीत होणे

Answer:

D.मती कुंठीत होणे

Reference ID:(18788)

योग्य पर्यायाची निवड करा.
पुढच्या निवडणुकीत तुम्ही योग्य नेता _____

A.निवडाल

B.निवडेल

C.निवडतील

D.निवडून

Answer:

A.निवडाल

Reference ID:(19030)

अरुण आणि विनोद यांच्या वर्तमान वयाचे गुणोत्तर अनुक्रमे 7:5 आहे. तीन वर्षापूर्वी अरुणचे वय आणि 3 वर्षांनंतर विनोदच्या वयाचे गुणोत्तर 1:1 आहे. तीन वर्षांनी अरुणचे वय आणि 3 वर्षापूर्वी विनोदच्या वयांमधील गुणोत्तर काय होते?

A.3:1

B.2:1

C.1:2

D.1:3

Answer:

B.2:1

Reference ID:(19002)

खालीलपैकी कोणता गोड अन्नपदार्थ महाराष्ट्रामधून असल्याचे मानले जाते?

A.रसगुल्ला

B.श्रीखंड

C.पेठा

D.सोनपापडी

Answer:

B.श्रीखंड

Reference ID:(18790)

क्रियापदानुसार कर्त्याच्या योग्य रूपाची निवड करा.
_____ त्या अपघातामधून वाचलात.

A.तुम्ही

B.तो

C.राम

D.तू

Answer:

A.तुम्ही

Reference ID:(18797)

पुढील वाक्यातील विरामचिन्ह ओळखा.

वि. स .खांडेकर, विभावरी शिरूरकर, व्यंकटेश माडगूळकर, व. पु. काळे यांसारख्या अनेक नामवंत लेखकांनी आपल्या उत्तमोत्तम कथांनी मराठी वाचकांना तृप्त केलंय.

A.लोपचिन्ह

B.विकल्पचिन्ह

C.स्वल्पविराम

D.उपपूर्णविमार

Answer:

C.स्वल्पविराम

Reference ID:(18789)

योग्य रूपाचा पर्याय निवडून गाळलेल्या जागी भरा .
_____ होत आहे रे आधी केलेची पाहिजे.

A.केल्याने

B.करताना

C.करून

D.करणे

Answer:

A.केल्याने

Reference ID:(19006)

भारताच्या कोणत्या राज्यामध्ये मंत्रीमंडळाने ग्रामीण भागामध्ये जीवनमान उंचावण्यासाठी 'स्मार्ट व्हिलेज' मोहिमे अंतर्गत 384.40 कोटी रुपयांची मंजूरी दिली आहे?

A.पंजाब

B.महाराष्ट्र

C.हरियाणा

D.गुजरात

Answer:

A.पंजाब

Reference ID:(19032)

खाली दिलेल्या चार पत्त्यांपैकी कोणता पत्ता खाली दिलेल्या पत्त्याशी अचूकपणे जुळत नाही?

Shop # 1,Al Fahidi Street,Opp Musalla Post Office, Near Dubai Museum - Dubai - United Arab Emirates
+971 50 245 9750

(i) Shop # 1,Al Fahidi Street,Opp Musalla Post Office, Near Dubai Museum - Dubai - United Arab Emirates
+971 50 245 9750

(ii) Shop # 1,Al Fahidi Street,Opp Musalla Post Office, Near Dubai Museum - Dubai - United Arab Emirates
+971 50 245 9750

(iii) Shop # 1,Al Fahidi Street,Opp Musalla Post Office, Near Dubai Museum - Dubai - United Arab Emirates
+971 50 245 9750

(iv) Shop # 1,Al Fahidi Street,Opp Musalla Post Office Near Dubai Museum - Dubai - United Arab Emirates
+971 50 245 9750

A.i

B.ii

C.iii

D.iv

Answer:

D.iv

Reference ID:(18757)

Choose the correct form of adjective for the given sentence:

The robber was handed over to the _____ police station.

A.most

B.nearer

C.nearest

D.near

Answer:

C.nearest

Reference ID:(19039)

दीपकच्या पगारामध्ये 50% वाढ झाली पण संगणक चालकाने चुकीने हा आकडा 80% असा टाकला आणि नवीन पे स्लिप छापली. संघटनेला त्यांची चूक लक्षात येण्याआधी त्याला तीन महिने त्याचा सुधारित पगार मिळत होता. जर त्याला मागच्या तीन महिन्यांमध्ये प्रदान केलेली अतिरिक्त रक्कम ही त्याच्या चौथ्या महिन्यामधून वजा करायची असेल तर, त्याच्या बरोबर नवीन पगाराच्या किती टक्के त्याला चौथ्या महिन्यात मिळतील?

A.30%

B.40%

C.45%

D.25%

Answer:

B.40%

Reference ID:(18759)

Choose the appropriate collective noun to complete the sentence:

The children saw _____ at the zoo.

A.a pride of lions

B.a pair of hyenas

C.a deck of artistes

D.a bunch of clowns

Answer: A.a pride of lions

Reference ID:(19048) एका व्यक्तीने 96 रुपयांचे इलेक्ट्रॉनिक घड्याळ अशाप्रकारे विकले की त्याच्या नफ्याची टक्केवारी ही घड्याळाच्या खरेदी किमती एवढी असेल. जर त्याने ते घड्याळ त्याच्या पूर्वीच्या टक्केवारीच्या दुप्पट टक्के नफ्याने ते विकले तर नवीन विक्री किंमत काय असेल?

A.रु. 132

B.रु. 120

C.रु. 123

D.रु. 100

Answer: A.रु. 132

Reference ID:(18799) 'प्रक्षिप्त' या शब्दात किती जोडाक्षरे आली आहेत?

A.3

B.2

C.1

D.4

Answer: A.3

Reference ID:(19012) फेब्रुवारी 2019 रोजी, महाराष्ट्रामध्ये पंत प्रधानांनी जळगांव-_____दुहेरीकरण आणि विद्युतीकरण रेल्वे प्रकल्पाचे उद्घाटन केले.

A.धुळे

B.उधना

C.बांद्रा

D.मनमाड

Answer:

B.उधना

Reference ID:(19014)

फेब्रुवारी 19 दरम्यान पंत प्रधानांच्या महाराष्ट्राला दिलेल्या भेटीदरम्यान त्यांनी अंजनी (नागपूर) ला _____ सोबत जोडणाऱ्या हमसफर एक्सप्रेसला ध्वजांकित केले.

A.सांगली

B.यवमाळ

C.नांदेड

D.पुणे

Answer:

D.पुणे

Reference ID:(20045)

एक विमान विशिष्ट अंतर 240 किमी/तासांच्या वेगाने 5 तासांमध्ये कापते. तेच अंतर $1\frac{2}{3}$ मध्ये कापण्यासाठी, त्याने किती वेगाने प्रवास करावा:

A.660 किमी/तास

B.680 किमी/तास

C.700 किमी/तास

D.720 किमी/तास

Answer:

D.720 किमी/तास

Reference ID:(19034)

आज शनिवार असेल तर, 1250 दिवसांनंतर आठवड्याचा कोणता दिवस असेल?

A.बुधवार

B.गुरूवार

C.शुक्रवार

D.शनिवार

Answer:

A.बुधवार

Reference ID:(18764)

Choose the correct form of verb for the given sentence:

In the Morrill Act, the Party granted federal lands to the States _____ agricultural and mechanical arts college.

A.for establish

B.to establish

C.establish

D.establishment

Answer:

B.to establish

Reference ID:(18760)

Choose the option with the appropriate suffix to complete the given sentence:

Athletes learn to use their muscles more effect_____ to improve their performance.

A.-ively

B.-edly

C.-ive

D.-ion

Answer:

A.-ively

Reference ID:(19026)

वाय्याच्या हालचालीचे मुख्य कारण म्हणजे:

A.पृथ्वीचे कमी जास्त प्रमाणात तापणे

B.उच्च दाब

C.असमान थंड होणे

D.कमी तापमान

Answer:

A.पृथ्वीचे कमी जास्त प्रमाणात तापणे

Reference ID:(19022)

आरटीआय कायद्याच्या कोणत्या कलमांतर्गत, जर सार्वजनिक स्वारस्यामधील अनावरण हे विशिष्ट "संरक्षित स्वारस्या" मुळे आच्छादित होत असेल तर शासन माहितीला नकार देऊ शकत नाही?

A.कलम 8(2)

B.कलम 9(2)

C.कलम 11(2)

D.कलम 10(2)

Answer:

A.कलम 8(2)

Reference ID:(18778)

दिलेल्या पर्यायांपैकी योग्य विरुद्धार्थी पर्याय शोधा.
संयोग -

A.कुयोग

B.वियोग

C.सुयोग

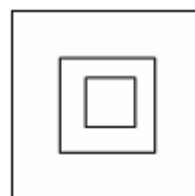
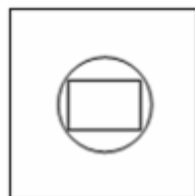
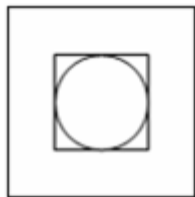
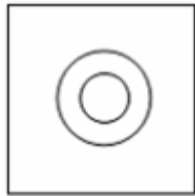
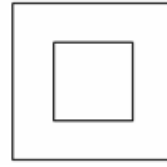
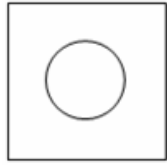
D.योगायोग

Answer:

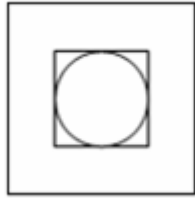
B.वियोग

Reference ID:(20044)

जर खाली दर्शवलेले दोन चौकोन एकमेकांवर आच्छादले जात असतील, तर खालीलपैकी कोणता विकल्प तयार होईल?



Answer:



Reference ID:(18768)

Choose the appropriate prepositions for the given sentence:

When I sent the proposal _____ my higher authorities, they turned it _____ mindlessly.

A.to, up

B.for, on

C.on, down

D.to, down

Answer:

D.to, down

Reference ID:(19036)

रिकाम्या जागी योग्य संख्या निवडून श्रृंखला पूर्ण करा:
5, 6, 10, 33, 128, _____

A.375

B.445

C.565

D.645

Answer:

D.645

Reference ID:(25015)

A दिलेल्या दोन स्थानकांदरम्यान 16 दिवसांमध्ये रुळ टाकू शकतो आणि B तेच काम 12 दिवसांत करू शकतो. C च्या मदतीने ते काम त्यांनी फक्त 4 दिवसांत पूर्ण केले. एकटा C ते काम किती दिवसांत करू शकतो:

$9\frac{1}{5}$ दिवस

$9\frac{2}{5}$ दिवस

$9\frac{3}{5}$ दिवस

10 दिवस

Answer:

9³/₅ दिवस

Reference ID:(18765)

Choose the most suitable determiner for the given sentence:

_____ are the books I was planning to read.

A.That

B.This

C.Those

D.Which

Answer:

C.Those

Reference ID:(18763)

Choose the appropriate articles to complete the given sentence:

_____ rally was organized by _____ Labour Party to protest against _____ rise in _____ price of petrol.

A.A, the, the, the

B.The, an, a, a

C.An, the, an, the

D.A, a, a, a

Answer:

A.A, the, the, the

Reference ID:(19047)

एका परीक्षेमध्ये अम्मूला 56% गुण मिळाले, सरनला 90% गुण मिळाले आणि रिमाला 650 गुण म्हणजे 65% गुण मिळाले तर तीन विद्यार्थ्यांचे एकूण गुण काढा.

A.2110

B.1250

C.2450

D.2010

Answer:

A.2110

Reference ID:(18782) खालील वाक्यातील अधोरेखित शब्दाचे लिंग ओळखा.
शासनाने अनेक चांगल्या पुस्तिका प्रसिद्ध केल्या आहेत.

A.पुल्लिंग

B.स्त्रीलिंग

C.नपुसकलिंग

D.उभयलिंग

Answer: B.स्त्रीलिंग

Reference ID:(18773) Choose the correct form of verb that is in agreement with the subject :
The public _____ requested not to walk on the grass.

A.are

B.is

C.has

D.do

Answer: A.are

Reference ID:(19042) A हा त्याच्या नफ्याच्या टक्केवारीची गणना विक्री किमतीवर तर B हा खरेदी किमतीवर करतो. त्यांच्या नफ्यामधील फरक 150 रुपये असल्याचे त्यांना आढळते. जर त्या दोघांची विक्री किंमत सारखी असेल आणि त्या दोघांना 20% नफा मिळत असेल, तर त्यांची विक्री किंमत काढा (रुपयांमध्ये).

A.2500

B.3000

C.3200

D.4500

Answer: D.4500

Reference ID:(18780)

रिकाय्या जागी योग्य जोडशब्द लिहा.

शूर शिपाई नेहमीच _____ घेऊन युद्धाला सज्ज असतात.

A.तलवारपट्टा

B.ढालतलवार

C.तलवारकट्यार

D.पट्टाढाल

Answer:

B.ढालतलवार

Reference ID:(18784)

पुढील वाक्याचा प्रकार ओळखा.

आईची पाठ फिरली की लगेच मुलगा खेळू लागला.

A.प्रश्नार्थी

B.मिश्र वाक्य

C.संयुक्त वाक्य

D.केवल वाक्य

Answer:

B.मिश्र वाक्य

Reference ID:(19023)

भारताच्या खालीलपैकी कोणत्या भागांमध्ये चहा आणि कॉफी दोन्हीचे उत्पादन केले जाते?

A.पूर्वेकडील हिमालयाचा प्रदेश

B.आसाम

C.पश्चिम घाट

D.पूर्वेकडील घाट

Answer:

C.पश्चिम घाट

Reference ID:(19004)

कोणत्या दुरूस्ती कायद्याद्वारे संविधानामधून मालमत्तेच्या हक्काला वगळण्यात आले?

A.44^{वा} दुरूस्ती कायदा

B.43^{वा} दुरुस्ती कायदा

C.42^{वा} दुरुस्ती कायदा

D.45^{वा} दुरुस्ती कायदा

Answer: A.44^{वा} दुरुस्ती कायदा

Reference ID:(19027) जर E = 5, RED = 27, तर DANCE = ?

A.26

B.28

C.27

D.25

Answer: C.27

Reference ID:(18798) गटात न बसणारा पर्याय निवडा.

A.स, ला, ते

B.स, ला, ना, ते

C.ने, ए, शी

D.चा, ची, चे

Answer: B.स, ला, ना, ते

Reference ID:(18786) योग्य उत्तराचा पर्याय निवडा.
'पु. शि. रेगे यांची सावित्री' ही कादंबरी सुंदर आहे या वाक्यात _____

A.'कादंबरी' उद्देश्य आहे.

B.'सावित्री' उद्देश्य आहे

C.'रेगे' उद्देश्य आहे.

D.'आहे' उद्देश्य आहे.

Answer: A.'कादंबरी' उद्देश्य आहे.

Reference ID:(19008)

स्कायट्रॅक्स वर्ल्ड एअरपोर्ट पुरस्कार 2019 मध्ये मुंबईच्या छत्रपती शिवाजी महाराज आंतरराष्ट्रीय विमानतळाची श्रेणी काय होती?

A.54 वी

B.24 वी

C.25 वी

D.64 वी

Answer:

D.64 वी

Reference ID:(18752)

Choose the option that has the correct spelling.

A.Aproxemately

B.Approximately

C.Approximatele

D.Approximetely

Answer:

B.Approximately

Reference ID:(18795)

योग्य पर्याय निवडून जोडी लावा.
धावणारा

A.वृद्धा

B.धावपटू

C.मुलगी

D.निर्झर

Answer:

B.धावपटू

Reference ID:(18783)

पुढील वाक्याचे उद्गारार्थी वाक्य करा.
किती उकाडा आहे.

A.उकाडा किती आहे?

B.उकाडा खूपच आहे!

C.किती हा उकाडा!

D.किती उकाडा आहे हा!

Answer:

C.किती हा उकाडा!

Reference ID:(19033)

मिश्रणाची 9.25 रुपये प्रति किलोग्रॅमने विक्री करण्यासाठी किराणामाल विक्रेत्याने अनुक्रमे 8.50 प्रति किलोग्रॅम आणि 11 रुपये प्रति किलोग्रॅम असलेल्या तांदळाच्या दोन प्रकारांना किती गुणोत्तरामध्ये मिसळावे?

A.7:5

B.5:3

C.6:5

D.7:3

Answer:

D.7:3

Reference ID:(19020)

अपोलो टायर्सचे ब्रॅन्ड दूत म्हणून अलिकडे कोणत्या भारतीय खेळाडूची नियुक्ती करण्यात आली?

A.सचिन रमेश तेंडुलकर

B.स्मृती मंधाना

C.मेरी कॉम

D.विराट कोहली

Answer:

A.सचिन रमेश तेंडुलकर

Reference ID:(18755)

Choose the option that best punctuates and capitalizes the given sentence:

january 26 1952 is one of the most significant dates in history

A.January 26 1952; is one of the most significant dates, in history.

B.January 26 1952 is one of the most significant dates, in history.

C.January 26, 1952 is one of the most significant dates in history.

D.January 26 1952, is one of the most significant dates in history!

Answer:

C.January 26, 1952 is one of the most significant dates in history.

Reference ID:(19024)

1985 मधील वर्ल्ड बिलियर्ड चॅम्पियनशीमध्ये त्याच्या पहिल्यांदाच केलेल्या आगमनामध्ये मुकुट मिळवणारा पहिला तरूण भारतीय व्यक्ती होता?

A.पंकज अडवाणी

B.गीत सेठी

C.अभिनव बिंद्रा

D.पुलेला गोपीचंद

Answer:

B.गीत सेठी

Reference ID:(18787)

दिलेल्या काळात परिवर्तन करण्यासाठी योग्य पर्याय निवडा.
मी खात्रीने उत्तीर्ण होईन. (पूर्ण भूतकाळ)

A.झालो

B.झालो होतो

C.झालो आहे

D.होत असेन

Answer:

B.झालो होतो

Reference ID:(18771)

Choose the appropriate conjunctions for the given sentence:

The jewellery is heavily insured; _____ don't worry.

A.but

B.and

C.so

D.that

Answer:

C.so

Reference ID:(19041)

रेल्वे सरासरी 48 किमी/तास वेगाने धावत असताना, ती 50 मिनिटांमध्ये अंतर कापते.
प्रवासाचा वेळ 40 मिनिटे एवढा कमी करण्यासाठी त्या ट्रेनने किती वेगाने धावावे?

A.60 किमी/तास

B.50 किमी/तास

C.70 किमी/तास

D.40 किमी/तास

Answer: A.60 किमी/तास

Reference ID:(18777) 'कसूर' या शब्दाचा समानार्थी शब्द सांगा.

A.कुचराई

B.कुरकुर

C.कसरत

D.बेसुर

Answer: A.कुचराई

Reference ID:(19016) 1899 मध्ये, खालीलपैकी कोणत्या व्हॉईसरॉयने 'दि कलकत्ता कॉर्पोरेशन ॲक्ट' नामक कायदेशीर उपाययोजना पुढे आणली?

A.लॉर्ड रिपॉन

B.लॉर्ड लायटॉन

C.लॉर्ड मायो

D.लॉर्ड कर्झन

Answer: D.लॉर्ड कर्झन

Reference ID:(19015) "दि फेट ऑफ बटरफ्लाइज" हे शीर्षक असलेल्या कादंबरीचे लेखक कोण आहेत?

A.नयनतारा सेहगल

B.राजेश जैन

C.पी चिदंबरम

D.रघुराम राजन

Answer: A.नयनतारा सेहगल

Reference ID:(19010) भारतीय घटनेचा कोणता भाग 'केंद्र आणि त्याची क्षेत्रे' यांना हाताळतो?

A.भाग I

B.भाग II

C.भाग III

D.भाग IV

Answer:

A.भाग I

Reference ID:(19037)

रिकाम्या जागी योग्य संख्या निवडून श्रृंखला पूर्ण करा:
1, 2, 10, 37, _____, 226

A.75

B.84

C.95

D.101

Answer:

D.101

Reference ID:(18793)

पुढील नामाला अयोग्य विशेषणाचा पर्याय निवडा.
मत

A.सार्वकालिक

B.एक

C.जाड

D.माझे

Answer:

C.जाड

Reference ID:(18792)

पुढील वाक्यातील अधोरेखित अव्ययाचा प्रकार ओळखा.
सुसंगती सदा घडो। सृजन वाक्य कानी पडो।।

A.उभयान्वयी अव्यय

B.केवलप्रयोगी अव्यय

C.शब्दयोगी अव्यय

D.क्रियाविशेषण अव्यय

Answer:

D.क्रियाविशेषण अव्यय

Reference ID:(18796)

पुढील वाक्यांमध्ये योग्य ते अव्यय घाला.

बोलणाऱ्याचे तोंड दिसते _____ करणाऱ्याची कृती दिसत नाही.

A.पण

B.जरी

C.जर

D.पासून

Answer:

A.पण

Reference ID:(19003)

भारतामधील खालीलपैकी कोणत्या राज्याने पहिल्यांदाच संरक्षित क्षेत्रामध्ये पाणमांजराची जनगणना आयोजित केली होती?

A.उत्तर प्रदेश

B.महाराष्ट्र

C.बिहार

D.पश्चिम बंगाल

Answer:

A.उत्तर प्रदेश

Reference ID:(19031)

सरासरी काढा.

22, 50, 68, 96, 85 & 33

A.56

B.39

C.59

D.26

Answer:

C.59

Reference ID:(18776)

Choose the option that best expresses the meaning of the highlighted idiom/phrase:

I **carried on** with my work.

A.hold

B.continued

C.stopped

D.broke up

Answer: B.continued

Reference ID:(18772) Choose the most appropriate usage to fill in the blank in the given sentence:

The local _____ are always helpful to visitors.

A.residence

B.residents

C.resides

D.residential

Answer: B.residents

Reference ID:(18762) Choose the appropriate articles for the given sentence:

_____ avalanche hit Lucerne, _____ small town on _____ banks of _____ River Seine and destroyed many lives.

A.The, a, an, the

B.An, a, the, the

C.An, a, the, a

D.The, an, a, a

Answer: B.An, a, the, the

Reference ID:(18753) Choose the option that has the correct spelling for the missing word in the given sentence:

In order to secure the house, William made an _____ payment.

A.earnest

B.ernest

C.erneast

D.earneast

Answer:

A.earnest
